

기출의 표범교과

수학 영역 —
수학 II 상



smart is sexy
Orbi.kr


기출의 표범교과

수학Ⅱ(상)

기출의 파급효과

수학Ⅱ(상)

Chapter 00. 수학Ⅱ의 필수 태도와 도구_11p

Chapter 01. 함수의 극한, 연속, 미분가능성_21p

Chapter 02. 함수의 극한값 계산과 미분계수_105p

Chapter 03. 다양한 정리와 함수의 극대, 극소_177p

Chapter 04. 다항함수, 대칭성_213p

Chapter 05. 도함수의 활용_321p

저자의 말

1. 기출의 파급효과에는 수학II 기출을 푸는 데 필수적인 태도와 도구만을 모두 정리했습니다.

1년 동안 열심히 공부한 학생이 현장에서 평가원 문제를 틀리는 이유는 개념이 부족해서가 아니라, 조건이 필연적으로 요구하는 태도와 도구가 없기 때문입니다. 따라서 각 Chapter를 교과서 목차를 따르지 않고 기출을 푸는데 필요한 태도와 도구를 바탕으로 작성했습니다.

2. 분권의 이유

‘미적분도 아니고 수학II 수준에서 분권이 필요할 정도의 분량이 나올 수 있나?’ 하는 의문이 들 수도 있습니다. 분권에는 크게 두 가지 이유가 존재하는데,

(1) 필수적이지만 교과서에는 없는 Chapter의 존재

〈Chapter 3. 다양한 정리와 함수의 극대, 극소〉, 〈Chapter 4. 다항함수, 대칭성〉, 〈Chapter 6. 함수의 방정식vs항등식vs부등식〉, 〈Chapter 9. 합성함수와 역함수〉, 〈Chapter 10. 복합적 개념이 포함된 킬러 문항〉 다섯 개의 챕터는 교과서에 없지만 중요한 태도와 도구를 정리한 챕터입니다.

특히 〈Chapter 6. 함수의 방정식vs항등식vs부등식〉, 〈Chapter 9. 합성함수와 역함수〉는 저학년 과정에서 모두 배우는 내용이지만 방정식, 항등식, 부등식, 합성함수, 역함수의 대강의 ‘느낌’만 가진 채 실제 문제에서 ‘어떻게’ 처리해야 하는지 모르는 학생이 많아 독립된 챕터를 구성했습니다. 따라서 실제 수학II 교육과정에서 직접적으로 다루는 내용보다 훨씬 많은 내용을 다룹니다.

(2) 자세한 해설

기출 해설을 정말 자세히 썼습니다.

어떤 조건부터 적용해야 하는지,
이 조건을 보고 왜 이러한 생각을 할 수밖에 없는지,
이 조건을 보고 왜 이러한 생각을 하면 안 되는지,
여기서 왜 식으로 풀어야 하는지,
여기서 왜 그래프로 풀어야 하는지에 관한 내용을 다 담았습니다.

‘딱딱하고’, ‘불친절하게’ 해설하면 분량은 많이 줄일 수 있겠으나, 그 경우 ‘기출의 파급효과’를 선택하는 의미가 퇴색되죠. 진정한 기출 분석은 위와 같은 질문에 모두 답할 수 있게끔 공부하는 것이기에 최대한 해설을 자세하게 썼습니다.

따라서 위의 두 가지 이유로 불가피하게 분권하게 되었습니다. 추천하는 것은 상하권을 순차적으로 학습하는 것이지만 본인이 어느 한 권에 해당하는 내용에는 자신이 있으면 다른 한 권만 공부하셔도 됩니다.

3. **최종요 준킬러 이상급의 기출을 기출의 파급효과 칼럼 예제로 들어 칼럼에서 배운 태도와 도구를 바로 활용할 수 있도록 하였습니다.**

칼럼 속 태도와 도구가 킬러, 준킬러에서 어떻게 보편적으로 이용되는지 직접 확인한다면 태도와 도구들이 더욱 와닿을 것입니다. 어떠한 한 문제에만 적용되는 특수한 스킬 같은 것이 아닙니다. 예제로 든 평가원 기출을 태도와 도구뿐만 아니라 진화 단계별로도 배치했습니다. 예제들을 '순서대로' 풀다보면 자연스럽게 기출의 진화과정을 느낄 수 있습니다. 태도와 도구 정리가 완성되면 최종 진화 형태인 후반부의 최신 기출문제는 혼자 clear 할 수 있고 이에 대한 보람을 느끼실 겁니다.

4. 선별 문항

교육청 및 사관학교 문제가 진화한 형태가 평가원에 출제되고 있습니다. 따라서 기존 평가원 기출만을 푸는 것만으로 매년 빠르게 발전하는 수능을 대비하기에는 부족합니다. 하지만 교육청 및 사관학교 문제들까지 모두 풀자니 양이 너무 많습니다. 이를 해결하기 위해 핵심적인 평가원, 교육청, 사관학교 문제를 필요한 만큼만 선별했습니다. 기출의 파급효과 수학II에는 평가원, 교육청, 사관학교, 경찰대 기출 중 가장 핵심이 되는 168문제를 담았습니다. 경찰대 문제는 매우 적습니다. 수학II(상) 98문제, 수학II(하) 70문제입니다.

※ 문제 좌표에서 '가형' 또는 'B형' 또는 '자연계'라고 표시된 것을 제외하면 전부 나형' 또는 'A형' 또는 '인문계' 기출입니다.

5. **더 많은 좋은 기출을 풀어보고 싶은 학생들을 위하여 기출의 파급효과 워크북 전자책도 준비하였습니다.**

기출의 파급효과 워크북은 기출에 대한 태도와 도구를 체화하기 시키기 위해 예제보다는 다소 쉬운 유제 워크북 수학II(상) 180문제, 워크북 수학II(하) 135문제로 구성되어 있습니다. 워크북의 유제는 연도순으로 배치되어 있습니다.

본권과의 호환성을 위하여 워크북에 담긴 기출 역시 본권의 목차를 따릅니다. **본권 학습을 하면서 워크북도 병행한다면 효과도 배가 될 것입니다.** 본권을 잘 학습하셨다면 워크북에 담긴 기출도 무리 없이 풀릴 겁니다.

본권을 학습하고 더 이상의 기출보단 n제로 학습하길 희망하는 학생들은 n제로 넘어가셔도 좋습니다. 본권만으로도 정말 중요한 기출을 거의 다 본 것이나 마찬가지이기 때문입니다.

짧거나 쉬운 Chapter는 2~3일을 잡으시고 길거나 어려운 Chapter는 6~7일 정도를 잡으시면 됩니다. 이를 따른다면 교재를 빠르면 한 달 내로 늦어도 두 달 내로 완료할 수 있을 것입니다.

개념을 한 번 떼고 쉬운 3~4점 n제(센 등등)를 완료한 후 혼자 힘으로 할 수 있는 만큼 기출을 한 번 정도 열심히 풀고 기출의 파급효과를 시작하면 효과가 좋을 것입니다.

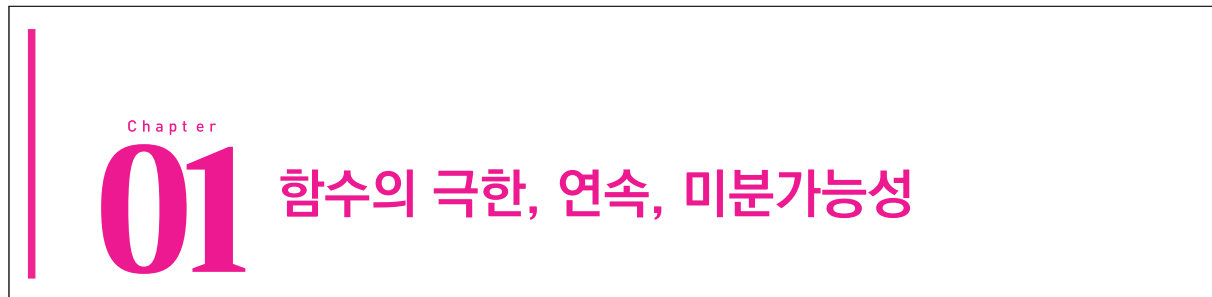
9월 평가원을 응시하기 전에 본권과 워크북을 '제대로' 1회독을 완료하기만 해도 실력이 부쩍 늘어나 있을 것입니다. 9월 평가원 이후 수능 전까지는 기출의 파급효과에서 잘 안 풀렸던 기출 위주로 다시 풀며 끊임없이 실전 모의고사로 실전 연습을 한다면 수능 때도 분명 좋은 결과가 있을 것입니다.

수학 1등급, 아직 늦지 않았습니다. 마지막으로 한 번쯤 봐야 할 기출, 기출의 파급효과와 함께 합시다.

간단한 교재 이용법

원활한 교재 이용을 위해 대단원, 중단원, 중소단원, 소단원 구분법을 소개하겠습니다.

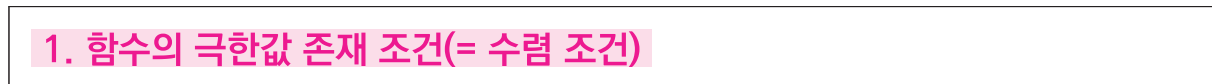
대단원 제목입니다.



대단원에 속한 중단원 제목입니다.



중단원에 속한 중소단원 제목입니다.



중소단원에 속한 소단원 제목입니다.



위를 참고하여 학습하신다면 Chapter 내용이 더욱 유기적으로 연결될 것입니다. 헛갈린다면 Chapter를 순서대로 읽어나가셔도 전혀 문제가 없습니다.

원활한 교재 이용을 위해 예제, 예제 해설 구분법을 소개하겠습니다.

본문과 함께 소개되는 예제입니다. 칼럼을 읽다 보면 중간중간에 예제들이 등장합니다.

예제(3) 14학년도 6월 평가원 9번

함수 $f(x)$ 에 대하여 $\lim_{x \rightarrow 2} \frac{f(x)-3}{x-2} = 5$ 일 때, $\lim_{x \rightarrow 2} \frac{x-2}{\{f(x)\}^2-9}$ 의 값은? [3점]

① $\frac{1}{18}$ ② $\frac{1}{21}$ ③ $\frac{1}{24}$ ④ $\frac{1}{27}$ ⑤ $\frac{1}{30}$

본문과 함께 소개되는 예제 해설입니다. 자세하고 본문에서 배운 도구와 태도를 일관적으로 적용합니다.

▶

1. $\lim_{x \rightarrow 2} \frac{f(x)-3}{x-2} = 5, \lim_{x \rightarrow 2} \frac{x-2}{\{f(x)\}^2-9}$

두 극한식을 보자마자 $\lim_{x \rightarrow 2} \frac{f(x)-3}{x-2} = 5$ 을 이용하여 $\lim_{x \rightarrow 2} \frac{x-2}{\{f(x)\}^2-9}$ 을 구해야겠다는 생각이 들어야 한다. 예제(2)는 치환을 해야만 수월하게 풀 수 있었지만, 예제(3)은 출제자가 친절하게 계산에 편한 형태를 제시했다.

2. $\lim_{x \rightarrow 2} \frac{f(x)-3}{x-2} = 5$ 에서
 $x \rightarrow 2$ 일 때 (분모) $\rightarrow 0$ 이고 극한값이 존재하므로 (분자) $\rightarrow 0$
 $\therefore \lim_{x \rightarrow 2} \{f(x)-3\} = 0, \lim_{x \rightarrow 2} f(x) = 3$

$\lim_{x \rightarrow 2} \frac{x-2}{\{f(x)\}^2-9} = \lim_{x \rightarrow 2} \frac{x-2}{\{f(x)+3\}\{f(x)-3\}} = \lim_{x \rightarrow 2} \frac{1}{f(x)+3} \times \lim_{x \rightarrow 2} \frac{x-2}{f(x)-3}$
 $= \frac{1}{6} \times \frac{1}{5} = \frac{1}{30}$

답은 ⑤!!

해설 활용법

1. 문제를 완벽하게 풀었다고 생각하더라도 해설을 읽어보세요. 특히, 예제는 해설까지 본문의 연장선이라 생각하시면 됩니다. 본문에서 설명한 일관된 태도와 도구를 적용하면서도 다양한 관점으로 접근하므로 본인의 풀이와 비교하면서 꼼꼼히 읽어보시길 바랍니다.
2. 해설 사이사이에 색을 추가한 글씨로 태도를 적어놨습니다. 실전에서는 사소한 태도에서 등급이 갈리므로 태도도 매우 중요합니다.
3. 문제 해결에 있어서 가장 중요한 것은 조건의 우선순위입니다. 즉, 먼저 적용해야 할 조건이 출제 의도로서 존재하고, 이러한 우선순위는 단계적 풀이와 연결됩니다.

수학을 잘하는 사람일수록 풀이과정이 깔끔한 이유도 명확한 단계를 밟아나가기 때문입니다. 예제 해설을 보면서 어떤 조건을 우선적으로 적용하는지, 어떠한 단계를 밟아나가는지에 주목하세요.

4. 해설은 대부분 학생이 스스로 이해할 수 있도록 친절하면서도, 필연적이고 일관된 논리를 통해 전개됩니다. 어려운 문항일수록 어떠한 필연성과 일관성을 통해 풀어나가는지 기대하고 해설을 보면 좋을 것 같습니다.

파급의 기출효과



cafe.naver.com/spreadeffect
파급의 기출효과 NAVER 카페

기출의 파급효과 시리즈는 기출 분석서입니다. 기출의 파급효과 시리즈는 국어, 수학, 영어, 물리학 1, 화학 1, 생명과학 1, 지구과학 1, 사회·문화가 예정되어 있습니다.

준킬러 이상 기출에서 얻어갈 수 있는 '꼭 필요한 도구와 태도'를 정리합니다.

'꼭 필요한 도구와 태도' 체화를 위해 관련도가 높은 준킬러 이상 기출을 바로바로 보여주며 체화 속도를 높입니다. 단시간 내에 점수를 극대화할 수 있도록 교재가 설계되었습니다.

학습하시다 질문이 생기신다면 '파급의 기출효과' 카페에서 질문을 할 수 있습니다.

교재 인증을 하시면 질문 게시판을 이용하실 수 있습니다.

기출의 파급효과 팀 소속 오르비 저자들이 올리시는 학습자료를 받아보실 수 있습니다.

위 저자 분들의 컨텐츠 질문 답변도 교재 인증 시 가능합니다.

더 궁금하시다면 <https://cafe.naver.com/spreadeffect/15>에서 확인하시면 됩니다.

모킹버드



mockingbird.co.kr

수능 대비 온라인 문제은행

모킹버드는 수능 대비에 초점을 맞춘 문제은행 서비스입니다. AI 문항 추천 알고리즘을 통해 이용자의 학습에 최적화된 맞춤형 모의고사를 제공하여 효율적인 수능 성적향상을 목표로 합니다. 수학, 과탐을 서비스 중입니다.

문항 제작과 검수에 기출의 파급효과 팀뿐만 아니라 지인선님을 포함한 시대/강대/메가 콘텐츠 팀에서 근무하였고 여러 문항 공모전에서 수상한 이력이 있는 여러 문항 제작자들이 함께 하였습니다.

웹 개발과 알고리즘 개발에는 서울대 컴공, 카이스트 전산학부 출신 개발자들이 참여하였습니다.

모킹버드를 통해 싸고 맛있는 실모를 온라인으로 뽑아 풀어보고,

AI 문항 추천 알고리즘 기술의 도움을 받아 학습 효율을 극대화해보세요.

가입만 해도 기출은 무제한 무료 이용 가능하고, 자작 실모 1회도 무료로 제공됩니다.

Chapter
04

다항함수, 대칭성



Chapter 04 다항함수, 대칭성

I 이차함수

1. 이차방정식을 다루는 도구

먼저 이차방정식의 근을 다룰 때 사용할 수 있는 4가지 도구를 소개하겠다. 당연히 알고 있는 개념이겠지만 이번 기회에 좀 더 체계적으로 내용을 이해, 숙지하여 **실전에서 자연스럽게 활용할 수 있는 것**을 목표로 하자.

(1) 판별식

이차방정식 $ax^2 + bx + c = 0$ ($a \neq 0$)에서 판별식 $D = b^2 - 4ac$, $\frac{D}{4} = \left(\frac{b}{2}\right)^2 - ac$

판별식은 이차방정식의 실근의 개수를 구해야 할 때, 이차함수의 그래프와 x 축의 관계를 알고 싶을 때 쓸 수 있는 도구다.

$D > 0$ 이면 이차방정식은 서로 다른 두 개의 실근을, $D = 0$ 이면 중근을, $D < 0$ 이면 허근을 갖는다.

※ 이차방정식의 실근의 개수를 구해야 하는 모든 경우에 반드시 판별식을 사용해야 하는 것은 아니다.

예를 들어, $(x - a)^2 = b$ 의 실근의 개수를 구하기 위해 이를 전개한 다음 $x^2 - 2ax + a^2 - b = 0$ 의 판별식을 볼 필요가 있을까?

아니다. 모든 실수 x 에 대해 $(x - a)^2 \geq 0$ 이므로 b 의 부호를 통해 실근의 개수를 알 수 있다.

$b < 0$ 이면 허근을, $b = 0$ 이면 중근을, $b > 0$ 이면 서로 다른 두 실근을 갖는다. 가장 강력한 도구는 관찰과 생각이다.

(2) 근과 계수의 관계

이차방정식 $ax^2 + bx + c = 0$ ($a \neq 0$)의 두 근을 α , β 라 할 때,

$$\alpha + \beta = -\frac{b}{a}, \quad \alpha\beta = \frac{c}{a}$$

※ α , β 는 중근일 수도 있고, 허근일 수도 있다.

e.g. $x^2 - 4x + 4 = 0$ 은 중근 $x = 2$ 를 가지고 $2 + 2 = 4$, $2 \times 2 = 4$ 이다.

e.g. $x^2 + 4x + 5 = 0$ 은 허근 $-2 \pm i$ 를 가지고,

$$(-2 + i) + (-2 - i) = -4, \quad (-2 + i) \times (-2 - i) = 4 - (-1) = 5$$

※ 근과 계수의 관계 맹목적 적용 주의

근과 계수의 관계는 2가지 정보를 바로 얻을 수 있으므로 굉장히 매력적인 도구이다.

그러나 이유 없이, 목적 없이 푸는 습관은 수능 수학이 추구하는 방향과 정반대이며 근과 계수의 관계도 맹목적으로 사용해선 안 된다.

예제(1) 20학년도 6월 평가원 13번

자연수 n 에 대하여 x 에 대한 이차방정식

$$x^2 - nx + 4(n-4) = 0$$

이 서로 다른 두 실근 α, β ($\alpha < \beta$)를 갖고, 세 수 $1, \alpha, \beta$ 가 이 순서대로 등차수열을 이룰 때, n 의 값은? [3점]

① 5

② 8

③ 11

④ 14

⑤ 17



1. 쉬운 3점짜리 문항이다. 그런데 당시 현장에서 적잖은 학생들이 이 문항에서 애를 썼는데 그 이유는 바로 근과 계수의 관계에 있다.

근과 계수의 관계를 적용하면

$$\alpha + \beta = n$$

$$\alpha\beta = 4(n - 4)$$

1, α , β 가 순서대로 등차수열을 이루므로

$$2\alpha = 1 + \beta$$

2. 근과 계수의 관계, 등차수열을 이용하여 3가지 관계식을 얻었다. 미지수는 α , β , n 3개이다. 미지수의 개수와 정보의 개수가 같으므로 연립방정식을 이용해 α , β , n 의 값을 모두 얻을 수 있다.

그러나 연립방정식을 시도해보면 원래 출제 의도보다 풀이가 굉장히 길어진다. 애초에 근과 계수의 관계는 출제 의도가 아니었다.

이차방정식 $x^2 - nx + 4(n - 4) = 0$ 을 보자마자 인수분해 반응이 바로 와야 한다. 인수분해 반응이 오지 않았다면 아직 충분한 경험치가 누적되지 않았다는 것이다.

3. 인수분해를 하면 $x^2 - nx + 4(n - 4) = (x - 4)(x - n + 4) = 0$ 이므로 서로 다른 두 실근은 4, $n - 4$ 이 된다.

4와 $n - 4$ 중 어느 것이 더 큰지 알 수 없으므로 CASE를 분류하자.

(i) $4 < n - 4$

이 경우 $\alpha = 4$, $\beta = n - 4$ 이므로 1, 4, $n - 4$ 가 이 순서대로 등차수열을 이룬다.

$$\text{등차중항을 이용하면 } \frac{1 + n - 4}{2} = 4, n - 3 = 8, n = 11 \text{ (O)}$$

(ii) $n - 4 < 4$

이 경우 $\alpha = n - 4$, $\beta = 4$ 이므로 1, $n - 4$, 4가 이 순서대로 등차수열을 이룬다.

$$\text{등차중항을 이용하면 } \frac{1 + 4}{2} = n - 4, 5 = 2n - 8, n = \frac{13}{2} \text{ (X)}$$

n 은 자연수이므로 $n = 11$ 이다.

답은 ③!!

comment

이처럼 근의 '관계'를 아는 것보다 근의 '값 자체'를 아는 게 훨씬 좋으므로 이차방정식을 볼 때는 근과 계수와의 관계보다는 인수분해를 먼저 떠올려야 한다.

예제(2) 20학년도 9월 평가원 26번

n 이 자연수일 때, x 에 대한 이차방정식

$$x^2 - (2n-1)x + n(n-1) = 0$$

의 두 근을 α_n, β_n 이라 하자. $\sum_{n=1}^{81} \frac{1}{\sqrt{\alpha_n} + \sqrt{\beta_n}}$ 의 값을 구하시오. [4점]



1. 마찬가지로 $x^2 - (2n-1)x + n(n-1) = 0$ 을 보자마자 인수분해 반응이 바로 와줘야 한다.

$$\begin{aligned}x^2 - (2n-1)x + n(n-1) &= 0 \\ \Leftrightarrow (x-n)(x-n+1) &= 0\end{aligned}$$

따라서 $\alpha_n = n, \beta_n = n-1$

(α_n, β_n 의 대소관계를 알 수는 없다. 아무렇게나 설정해도 답은 똑같이 나온다.)

$$2. \sum_{n=1}^{81} \frac{1}{\sqrt{\alpha_n} + \sqrt{\beta_n}} = \sum_{n=1}^{81} \frac{1}{\sqrt{n} + \sqrt{n-1}}$$

분모에 근호($\sqrt{\quad}$)가 있으므로 유리화를 해주자.

$$\begin{aligned}\sum_{n=1}^{81} \frac{\sqrt{n} - \sqrt{n-1}}{(\sqrt{n} + \sqrt{n-1})(\sqrt{n} - \sqrt{n-1})} &= \sum_{n=1}^{81} (\sqrt{n} - \sqrt{n-1}) \\ &= 0 + \sqrt{1} - \sqrt{1} + \sqrt{2} - \dots - \sqrt{80} + \sqrt{81} = 9\end{aligned}$$

답은 9!!

(3) (정수단위의) 인수분해

‘정수단위’라고 표현한 이유는 근의 공식과 구별 짓기 위함이다.

$x^2 - 4x + 3 = 0$ 과 $x^2 - 5x + 3 = 0$ 을 비교해 보자.

① $x^2 - 4x + 3 = 0$

이 경우 정수단위의 인수분해가 바로 가능하다.

$$(x-3)(x-1) = 0$$

물론 이것도 근의 공식을 통해 근을 구할 수도 있지만, 이런 방정식을 보고 근의 공식을 적용하는 사람은 없을 것이다. 혹시나 그렇게 해왔다면... 이차방정식을 보자마자 인수분해하는 법을 배우기를 바란다.

② $x^2 - 5x + 3 = 0$

이 경우 정수단위의 인수분해는 불가능하다. 그러나 근의 공식을 통해 역지로 인수분해할 수는 있다.

$$x = \frac{5 \pm \sqrt{13}}{2} \text{이므로}$$
$$\left(x - \frac{5 + \sqrt{13}}{2}\right) \left(x - \frac{5 - \sqrt{13}}{2}\right) = 0$$

이 책에서 이차방정식의 인수분해는 ① 처럼 정수단위로 곧바로 인수분해가 되는 경우만을 칭하도록 하겠다.

※ 단, 여기서 말하는 정수단위는 방정식의 근이 ‘정수’여야 한다는 것이 아니라, 각각의 인수가 포함된 항들의 계수가 정수여야 한다는 말이다.

예를 들어, 이차방정식 $3x^2 - 4x + 1 = 0$ 을 인수분해하면 $(3x-1)(x-1) = 0$ 이 되어

방정식의 근은 $x = \frac{1}{3}$, $x = 1$ 이지만 $(3x-1)(x-1) = 0$ 도 정수단위의 인수분해로 취급한다.

주의 : 방정식이 미지수를 포함하더라도 인수분해가 항상 불가능한 것은 아니다. 앞선 예제(1), (2)에서도

$$x^2 - nx + 4(n-4) = 0, \quad x^2 - (2n-1)x + n(n-1) = 0 \text{은 모두 인수분해가 가능했다.}$$

태도 : 제시된 식이 미지수를 포함하더라도 인수분해를 곧바로 포기하지는 말자.

(4) 근의 공식

이차방정식 $ax^2 + bx + c = 0$ 에서 $x = \frac{-b + \sqrt{b^2 - 4ac}}{2a}$ 또는 $x = \frac{-b' + \sqrt{b'^2 - ac}}{a}$ (단, $b' = \frac{b}{2}$)

※ b 가 짝수인 경우 $x = \frac{-b' + \sqrt{b'^2 - ac}}{a}$ 을 이용하는 것이 효율적이다.

수능 수학에서 근의 공식은 잘 쓰이지 않는다.

근의 공식은 인수분해와 마찬가지로 방정식의 근을 직접 구하기 위해 쓰는 도구인데,

수능 수학은 복잡한 계산을 지양하기 때문에 '정수단위로 인수분해가 가능한 형태로' 방정식을 제시하는 경우가 많다.

따라서 근의 공식도 거의 마지막에 고려해야 하되 만약 정수단위로 인수분해가 되지 않음에도 불구하고 '근의 값 자체'를 구해야 할 필요성이 있다면 근의 공식을 적용해라.

(5) 도구의 우선순위

지금까지 살펴본 이차방정식을 다루는 4가지 도구에도 우선순위가 존재한다.

판별식은 써야 할 상황이 분명하므로 독립적으로 보고, 나머지 3개의 도구를 놓고 봤을 때

**인수분해 > 근과 계수의 관계 ≥ 근의 공식
순으로 중요하다.**

2. 조건 해석을 통한 이차함수의 그래프 그리기

제시되는 표현을 잘 보자. 똑같은 그래프를 나타내는 데에도 여러 표현을 사용할 수 있다. 단, 이런 표현들을 외우려고 하지 말자. '공부'해서 주어진 문장을 그 자리에서 바로 따질 있는 실력을 갖춰야 한다.

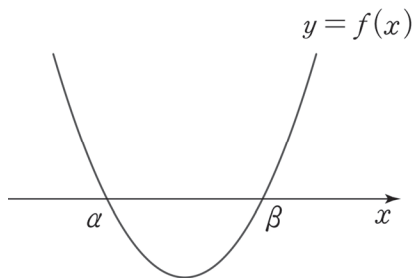
$f(x)$ 는 최고차항의 계수가 양수인 이차함수이고 α, β 는 $\alpha < \beta$ 인 실수라 하자.

① $f(\alpha) = f(\beta) = 0$

$f(x) = 0$ 이 서로 다른 두 실근 α, β 를 가진다.

$f(x)$ 가 $(x - \alpha)(x - \beta)$ 를 인수로 가진다.

$f(x) = 0$ 의 판별식 $D > 0$

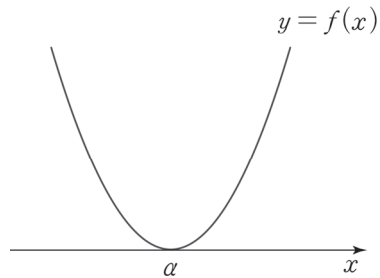


② $f(\alpha) = f'(\alpha) = 0$

$f(x) = 0$ 이 α 를 중근으로 가진다.

$f(x)$ 가 $(x - \alpha)^2$ 을 인수로 가진다.

$f(x) = 0$ 의 판별식 $D = 0$



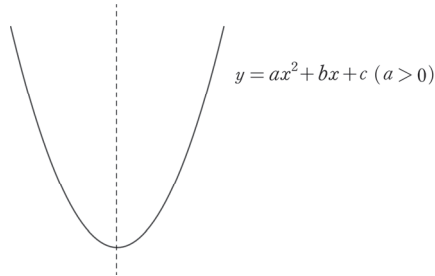
이처럼 다항함수 $f(x)$ 의 경우, 도함수인 $f'(x)$ 를 관찰하지 않고 $f(x)$ 의 식만 가지고도 $f(x)$ 의 그래프 개형을 알 수 있는 경우가 있다.

3. 이차함수의 그래프 특징

(1) 대칭성

이차함수 그래프에서 가장 중요한 특징이다. **이차함수가 등장하면 반드시 대칭성을 떠올리자.**

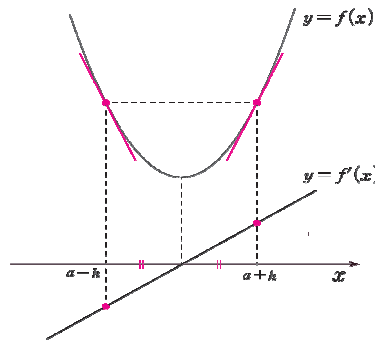
① 이차함수의 꼭짓점의 x 좌표를 α 라 할 때, 이차함수의 그래프는 직선 $x = \alpha$ 에 대하여 대칭이다.



② 이차함수 $f(x)$ 의 꼭짓점의 x 좌표가 a 일 때, $f'(a-h) = -f'(a+h)$ 이다.

도함수인 일차함수에서 x 절편을 기준으로 대칭인 두 점에서의 함숫값은 부호가 다르고 절댓값이 같다.

⇔ 원함수인 이차함수에서 대칭축을 기준으로 대칭인 두 점에서의 미분계수는 부호가 다르고 절댓값이 같다.



(2) 이차함수의 그래프 개형은 최고차항의 계수에만 영향받는다.

서로 다른 두 이차함수 $y = ax^2 + bx + c$ 와 $y = ax^2 + dx + e$ 의 그래프 개형이 b, c, d, e 의 값과 상관없이 동일하다는 것을 보여주면 증명할 수 있다. (단, $a \neq 0$ 이다.)

두 함수식을 완전제곱식 꼴로 변형하자. $y = a\left(x + \frac{b}{2a}\right)^2 + c$, $y = a\left(x + \frac{d}{2a}\right)^2 + e$

이차함수 $y = a\left(x + \frac{b}{2a}\right)^2 + c$ 를 x 축 방향으로 $\frac{b-d}{2a}$ 만큼 평행이동하고, y 축 방향으로 $e-c$ 만큼 평행이동

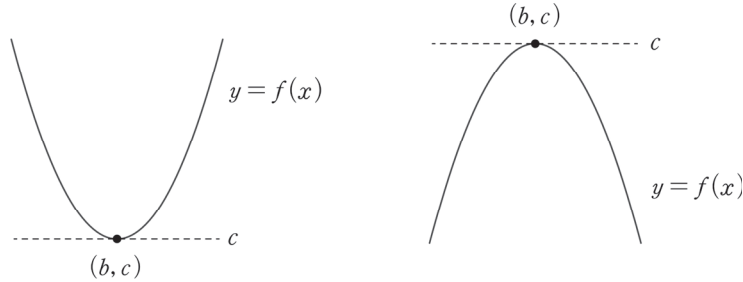
하면, $y - e + c = a\left(x - \frac{b-d}{2a} + \frac{b}{2a}\right)^2 + c$ 이므로 $y = a\left(x + \frac{d}{2a}\right)^2 + e$ 이다.

즉, 최고차항의 계수만 같다면 평행이동 통해 언제나 같은 함수로 만들어줄 수 있으므로

두 함수의 그래프 개형은 서로 같다. 따라서 이차함수의 그래프 개형은 최고차항의 계수에만 영향받는다.

(3) 최대·최소

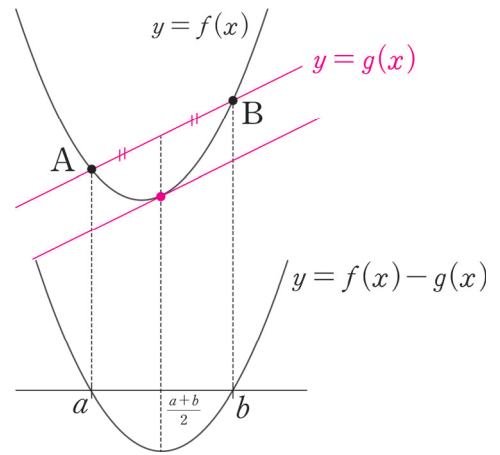
대칭성 다음으로 중요한 이차함수의 그래프 특징이다. $f(x) = a(x-b)^2 + c$ ($a \neq 0$)일 때,
 $a > 0$ 이면 $f(x)$ 는 $x = b$ 에서 최솟값 c 를 갖고, $a < 0$ 이면 $f(x)$ 는 $x = b$ 에서 최댓값 c 를 갖는다.



(4) 대칭성 확장 : 이차함수와 일차함수

- ① 이차함수 $y = f(x)$ 위의 서로 다른 두 점 $A(a, f(a))$ 와 $B(b, f(b))$ 를 잇는 직선의 기울기와 동일한 미분계수를 갖는 지점의 x 좌표 : $\frac{a+b}{2}$

- ② 두 점 $A(a, f(a))$ 와 $B(b, f(b))$ 를 지나가는 직선의 방정식을 $y = g(x)$ 라 할 때,
 이차함수 $f(x) - g(x)$ 의 꼭짓점의 x 좌표 : $\frac{a+b}{2}$



②, ①의 순으로 이유를 살펴보자.

- ② 위의 그림에서 이차함수 $f(x)$ 의 최고차항 계수가 1이라고 할 때, $f(x), g(x)$ 의 차이함수를 작성하면 다음과 같다. $f(x) - g(x) = (x-a)(x-b)$
 $y = f(x) - g(x)$ 의 그래프와 x 축이 서로 다른 두 점 $(a, 0), (b, 0)$ 에서 만나므로 $f(x) - g(x)$ 의 꼭짓점의 x 좌표는 $\frac{a+b}{2}$ 가 된다.

- ① $f(x) - g(x) = (x-a)(x-b)$ 의 양변을 x 에 대하여 미분하면 $f'(x) - g'(x) = 2\left(x - \frac{a+b}{2}\right)$

$$x = \frac{a+b}{2} \text{를 대입하면 } f'\left(\frac{a+b}{2}\right) = g'\left(\frac{a+b}{2}\right)$$

$g'(x)$ = (두 점 $A(a, f(a))$ 와 $B(b, f(b))$ 를 잇는 직선의 기울기)이므로

$g'\left(\frac{a+b}{2}\right)$ 는 서로 다른 두 점 $A(a, f(a))$ 와 $B(b, f(b))$ 를 잇는 직선의 기울기와 동일하다.

따라서 이차함수 $f(x)$ 위의 서로 다른 두 점 $A(a, f(a))$ 와 $B(b, f(b))$ 를 잇는 직선의 기울기와 동일한 미분계수를 갖는 지점의 x 좌표는 $\frac{a+b}{2}$ 가 된다.

예제(3) 06학년도 9월 평가원 가형 7번

이차함수 $y = f(x)$ 의 그래프가 직선 $x = 3$ 에 대하여 대칭일 때, <보기>에서 옳은 것을 모두 고른 것은? [3점]

<보 기>

ㄱ. $y = f(x)$ 에서 x 의 값이 -1 에서 7 까지 변할 때의 평균변화율은 0 이다.

ㄴ. 두 실수 a, b 에 대하여 $a + b = 6$ 이면 $f'(a) + f'(b) = 0$ 이다.

ㄷ. $\sum_{k=1}^{15} f'(k-3) = 0$

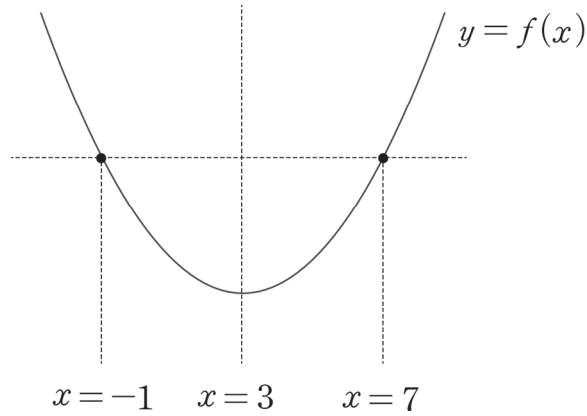
① ㄱ

② ㄷ

③ ㄱ, ㄴ

④ ㄴ, ㄷ

⑤ ㄱ, ㄴ, ㄷ



1. 식으로 따져도 되지만, 이차함수의 대칭성을 생각하면 옳은 보기임을 바로 알 수 있다. (O)

2. $a + b = 6$ 이므로 a, b 는 서로 $x = 3$ 에 대해 대칭인 관계에 놓여있다($\Leftrightarrow a, b$ 의 평균은 3이다).
 $\therefore f'(a) + f'(b) = 0$ 이다. (O)

3. ㄷ을 풀 때는 태도 측면에서 두 가지 사항을 고려해야 한다.

① 15개의 미분계수 값을 다 더하는 것이 출제 의도일 리가 절대 없다. (생각 없이 풀어서 맞혔다면 틀린 것과 다름없다.) 반드시 이차함수의 대칭성을 이용해서 계산을 줄여야 한다.

② ㄱㄴㄷ 문항에서 선지 (ㄱ), (ㄴ)은 ㄷ의 길잡이다. 여기서도 선지 (ㄷ)을 해결할 때 선지 (ㄴ)을 활용하는 것이 출제의도이다.

$$\begin{aligned}
 & f'(-2) + f'(-1) + \dots + f'(11) + f'(12) \\
 &= f'(3) \\
 &+ f'(2) + f'(4) \\
 &+ f'(1) + f'(5) \\
 &\quad \vdots \\
 &+ f'(-2) + f'(8) \\
 &+ f'(9) + f'(10) + f'(11) + f'(12) \\
 &= f'(9) + f'(10) + f'(11) + f'(12) \neq 0
 \end{aligned}$$

따라서 ㄷ은 틀렸다.

옳은 선지는 ㄱ, ㄴ이므로 답은 ③!!

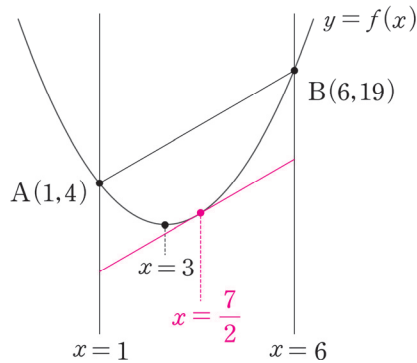
예제(4) 19학년도 경찰대 7번

이차함수 $f(x) = x^2 - 4x + 7$ 의 그래프 위에 두 점 $A(1, 4)$, $B(6, 19)$ 가 있다. 직선 AB 와 평행하고 포물선 $y = f(x)$ 에 접하는 직선이 두 직선 $x = 1$, $x = 6$ 과 만나는 점을 각각 D , C 라 할 때, 평행사변형 $ABCD$ 의 넓이는? [4점]

- ① 30 ② $\frac{125}{4}$ ③ $\frac{65}{2}$ ④ $\frac{135}{4}$ ⑤ 35



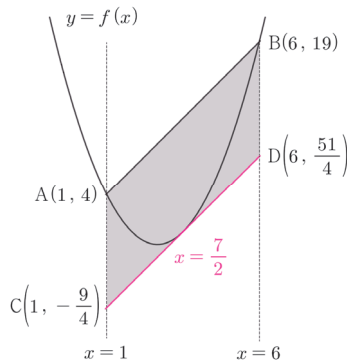
1. 상황 파악을 위해 그래프를 그리자.



본문에서 배운 **이차함수 대칭성 확장**을 고려하면 직선 AB와 평행한 직선이 곡선 $f(x)$ 에 접하는 점의 x 좌표는 $\frac{1+6}{2} = \frac{7}{2}$ 이다. $f\left(\frac{7}{2}\right) = \frac{21}{4}$ 이므로 접선은 점 $\left(\frac{7}{2}, \frac{21}{4}\right)$ 을 지나고. 접선의 기울기는 두 점 A(1, 4), B(6, 19)를 지나는 직선의 기울기와 같으므로 접선의 방정식은 다음과 같다.

$$y = \frac{19-4}{6-1}\left(x - \frac{7}{2}\right) + \frac{21}{4} = 3x - \frac{21}{4}$$

2. 접선이 두 직선 $x = 1$, $x = 6$ 과 만나는 점의 좌표는 $C\left(1, -\frac{9}{4}\right)$, $D\left(6, \frac{51}{4}\right)$



평행사변형 ABCD에서 밑변을 선분 AC로 보면 높이는 두 직선 $x = 1$, $x = 6$ 사이의 거리가 된다.

따라서 평행사변형의 넓이는 $\left\{4 - \left(-\frac{9}{4}\right)\right\} \times 5 = \frac{125}{4}$ 이다.

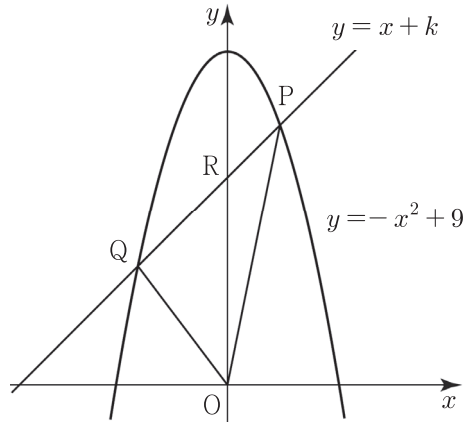
답은 ②!!

※ 답을 구하기 위해서 두 점 C, D 중 한 점의 좌표만 구해도 된다.

한편, 두 점 C, D의 좌표를 구하기 귀찮다면 다음과 같은 방법도 있다. 두 점 A(1, 4), B(6, 19)의 중점 $\left(\frac{7}{2}, \frac{23}{2}\right)$ 과 직선과 이차곡선의 접점 $\left(\frac{7}{2}, \frac{21}{4}\right)$ 사이의 거리가 선분 AC의 길이와 같으므로 평행사변형의 넓이는 $\left(\frac{23}{2} - \frac{21}{4}\right) \times 5 = \frac{25}{4} \times 5 = \frac{125}{4}$ 이다.

예제(5) 17학년도 사관 20번

그림과 같이 직선 $y = x + k$ ($3 < k < 9$)가 곡선 $y = -x^2 + 9$ 와 만나는 두 점을 각각 P, Q라 하고, y 축과 만나는 점을 R라 하자. <보기>에서 옳은 것만을 있는 대로 고른 것은? (단, O는 원점이고, 점 P의 x 좌표는 점 Q의 x 좌표보다 크다.) [4점]



<보 기>

- ㄱ. 선분 PQ의 중점의 x 좌표는 $-\frac{1}{2}$ 이다.
- ㄴ. $k = 7$ 일 때, 삼각형 ORQ의 넓이는 삼각형 OPR의 넓이의 2배이다.
- ㄷ. 삼각형 OPQ의 넓이는 $k = 6$ 일 때 최대이다.

- ① ㄱ ② ㄷ ③ ㄱ, ㄴ ④ ㄴ, ㄷ ⑤ ㄱ, ㄴ, ㄷ



1. 이차함수 대칭성 확장을 적용하자. $f(x) = -x^2 + 9$ 라 할 때, 선분 PQ의 중점의 x 좌표는 함수 $f(x)$ 에서 선분 PQ의 기울기와 동일한 미분계수를 갖는 x 좌표이다. $f'(x) = -2x$ 이므로 방정식 $-2x = 1$ 을 풀어주면 $x = -\frac{1}{2}$ 이다. (O)

※ 근과 계수의 관계를 이용하는 방법

두 점 P, Q의 x 좌표를 각각 p, q 라 할 때, 이차방정식 $-x^2 + 9 = x + k$ 의 서로 다른 두 실근이 p, q 이다. 근과 계수의 관계에 의해 $p + q = -1$ 이므로 선분 PQ의 중점의 x 좌표는 $\frac{p+q}{2} = -\frac{1}{2}$ 이다.

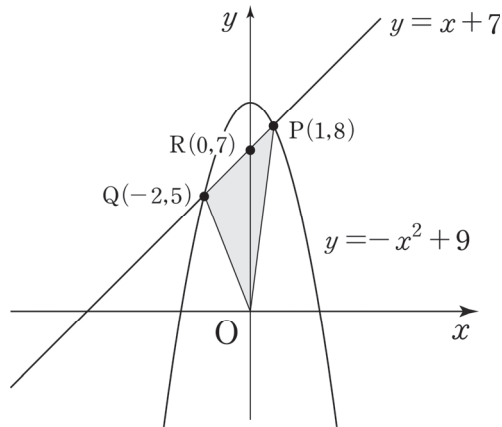
2. (L)에서 묻고 있는 것은 두 삼각형의 구체적인 넓이가 아닌 두 삼각형의 넓이의 '비'이다.

삼각형 ORQ와 OPR은 서로 밑변 \overline{OR} 을 공유하고 있으므로 두 삼각형의 넓이의 비는 높이의 비와 같다. 두 삼각형의 높이만 구하자.

(삼각형 ORQ의 높이) : | 점 Q의 x 좌표 |, (삼각형 OPR의 높이) : 점 P의 x 좌표

두 점 Q, P의 x 좌표는 방정식 $x + 7 = -x^2 + 9$ 의 두 실근이다. $x + 7 = -x^2 + 9$,
 $x^2 + x - 2 = 0$

∴ 점 Q의 x 좌표는 -2 이고, 점 P의 x 좌표는 1 이다. (∵ 점 P의 x 좌표 > 점 Q의 x 좌표)

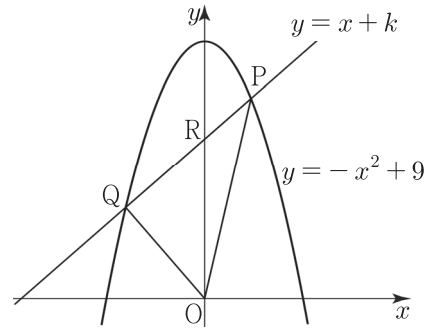


따라서 (삼각형 OPR의 높이) $\times 2 =$ (삼각형 ORQ의 높이) 이므로
 (삼각형 OPR의 넓이) $\times 2 =$ (삼각형 ORQ의 넓이)이다. (O)

※ 두 삼각형의 넓이를 구할 필요가 전혀 없었다. 보기를 생각하며 읽지 않고, 그래프를 관찰하지 않았다면 삼각형의 넓이를 구했을 확률이 높다. 항상 손이 가기 전에 눈으로 관찰하는 습관을 들이자.

3. 선지 (ㄴ)에서는 $k = 7$ 이라는 구체적인 값을 준 반면 (ㄷ)은 k 값을 특정하지 않았다. (ㄴ)을 통해 구체적인 사례를 학습했다면 일반적인 사례도 충분히 풀 수 있어야 한다는 출제자의 의도다.

삼각형 OPQ의 넓이를 나타내는 식을 작성하여 최댓값을 갖는 k 값을 따지자. 이때, k 의 범위는 $3 < k < 9$ 임에 주의해야 한다.



(삼각형 OPQ의 넓이) = (삼각형 OPR의 넓이) + (삼각형 ORQ의 넓이)

두 삼각형 OPR, ORQ의 밑변 길이는 모두 점 R의 y 좌표로 k 이다.

두 삼각형의 높이를 구하기 위해 곡선 $y = -x^2 + 9$ 와 직선 $y = x + k$ 의 교점의 x 좌표를 구하자.

$$-x^2 + 9 = x + k, x^2 + x + k - 9 = 0 \quad \therefore x = \frac{-1 \pm \sqrt{37 - 4k}}{2}$$

이 중 더 큰 값인 $\frac{-1 + \sqrt{37 - 4k}}{2}$ 가 (삼각형 OPR의 높이)가 되고,

더 작은 값에 절댓값을 씌운 $\frac{1 + \sqrt{37 - 4k}}{2}$ 가 (삼각형 ORQ의 높이)가 된다.

$$(\text{삼각형 OPR의 넓이}) = k \times \frac{-1 + \sqrt{37 - 4k}}{2} \times \frac{1}{2} = \frac{-k + k\sqrt{37 - 4k}}{4}$$

$$(\text{삼각형 ORQ의 넓이}) = k \times \frac{1 + \sqrt{37 - 4k}}{2} \times \frac{1}{2} = \frac{k + k\sqrt{37 - 4k}}{4}$$

$$\therefore (\text{삼각형 OPQ의 넓이}) = \frac{-k + k\sqrt{37 - 4k} + k + k\sqrt{37 - 4k}}{4} = \frac{k\sqrt{37 - 4k}}{2}$$

$\frac{k\sqrt{37 - 4k}}{2}$ 이 최댓값을 갖는 k 의 값을 구하자. 루트 바깥에 있는 k 는 상당히 거슬리므로 루트 안으

로 집어넣자. $\frac{k\sqrt{37 - 4k}}{2} = \frac{\sqrt{-4k^3 + 37k^2}}{2}$

$-4k^3 + 37k^2 = h(k)$ 라 할 때, $3 < k < 9$ 에서 삼차함수 $h(k)$ 가 최댓값을 가지는 순간이 곧 $\frac{\sqrt{-4k^3 + 37k^2}}{2}$ 이 최댓값을 가지는 순간이다.

$$h(k) = -4k^3 + 37k^2 = -4k^2 \left(k - \frac{37}{4} \right) \text{이므로}$$

삼차함수 비율에 따라 $h(k)$ 는 $k = 0$ 에서 극솟값, $k = \frac{37}{6}$ 에서 극댓값을 가진다.

※ 삼차함수 비율은 이번 챕터의 <삼차함수 파트>에서 배울 것이다. 아직 삼차함수의 비율을 모르는 학생은 $h(k)$ 를 미분하여 극댓값과 극솟값을 갖는 k 값을 구하면 된다.

$3 < k < 9$ 이므로 해당 정의역에서 $h(k)$ 는 $k = \frac{37}{6}$ 에서 최댓값을 가진다. (X)

옳은 선지는 ㄱ, ㄴ이므로 답은 ③!!

comment

(ㄷ)은 현장에서 충분히 혼란을 줄 만한 선지이다.

‘우리가 언제 무리함수의 최대·최소를 배웠지?’라는 생각이 드는 것도 당연하다.

하지만 뚜껑을 열어보니 선지 (ㄷ)은 결국 삼차함수의 최대·최소를 묻는 문항이었다. 사관학교 출제 문항이지만 이처럼 비주얼로 학생들에게 겁을 주는 것은 평가원이 가장 잘하는 영역이다.

따라서 기출을 공부하면서 ‘비주얼에 겁먹지 않는’ 연습만 하더라도 많은 것을 얻어갈 수 있다.

삼차함수

1. 변곡점

변곡점이라는 개념은 수학 II 교육과정에서는 다루지 않는다.

변곡점을 다루기 위해서는 미분을 두 번 하는 이계도함수를 언급해야 하는데 이계도함수는 수학 II 교육과정에 포함되지 않기 때문이다.

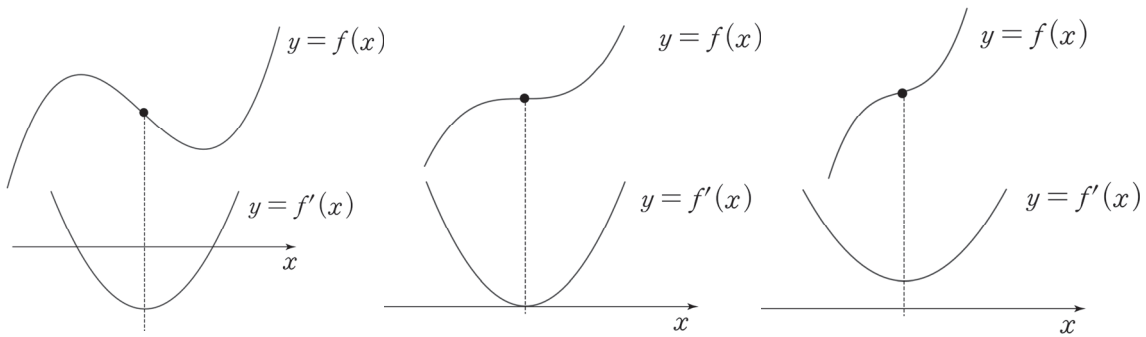
물론 여기서도 이계도함수 내용을 언급하면서까지 변곡점을 가르치지 않을 것이다.

본 교재에서 변곡점은 '삼차함수의 점대칭 점'의 의미로만 받아들인다.

이때, 삼차함수의 점대칭 점(변곡점)의 x 좌표는 삼차함수의 도함수인 이차함수의 꼭짓점의 x 좌표와 같다.

여러 수학 II 강의에서 언급하는 변곡점도 이런 의미인 경우가 많다.

매번 삼차함수의 점대칭 점으로 표현하기 번거로우므로 변곡점이라는 표현을 도입한다는 느낌으로 받아들인다.



※ 변곡점의 x 좌표는 $f''(x) = 0$ 을 만족하는 x 이다.

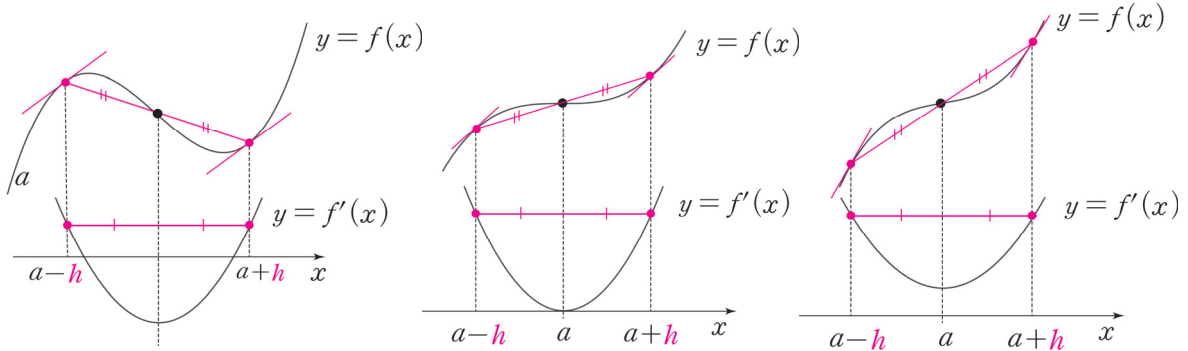
삼차함수 $f(x)$ 의 변곡점의 x 좌표는 이차함수 $f'(x)$ 의 꼭짓점의 x 좌표와 같다.

이차함수의 꼭짓점의 x 좌표는 미분계수가 0이 되는 지점이므로 변곡점의 x 좌표는 $f'(x)$ 의 미분계수가 0이 되는 x , 즉 $f''(x) = 0$ 을 만족하는 x 이다.

$f''(x)$ 는 미적분에서 배우는 이계도함수이므로 삼차함수의 변곡점의 x 좌표를 구할 때를 제외하고는 거의 쓸 일이 없다.

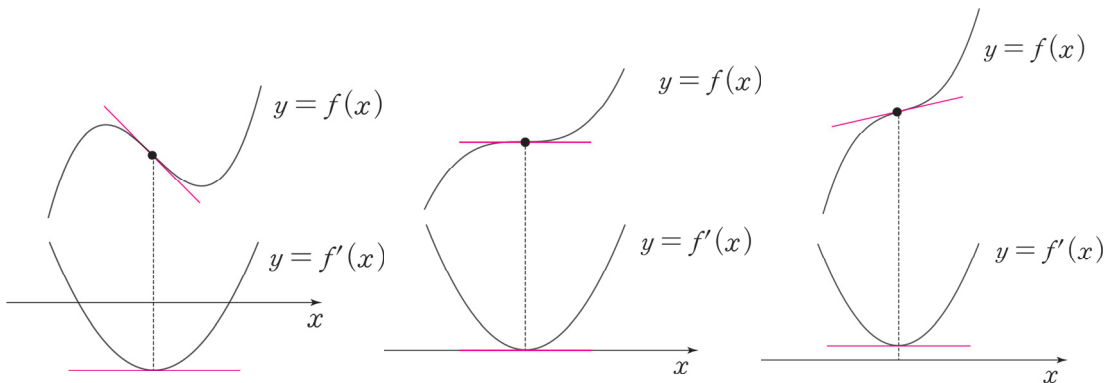
(1) 변곡점을 기준으로 대칭인 두 점에서의 미분계수는 서로 같다.

아래의 그림에서 알 수 있듯이 도함수인 이차함수는 대칭축을 기준으로 대칭이다.
 따라서 도함수인 이차함수에서 대칭축을 기준으로 대칭인 두 점에서 함숫값은 같다.
 = 원함수인 삼차함수에서 변곡점을 기준으로 대칭인 두 점에서 미분계수는 같다.



만약 $y = f(x)$ 위에서 그은 서로 다른 두 접선의 기울기가 같다면, 두 접점은 변곡점에 대하여 대칭이다.

(2) 삼차함수의 미분계수는 변곡점에서 최솟값 혹은 최댓값을 갖는다.



(그림에서 $f(x)$ 는 최고차항의 계수가 양수인 삼차함수이다.)

삼차함수의 변곡점의 x 좌표는 도함수인 이차함수의 꼭짓점의 x 좌표와 일치한다.
 이때, 이차함수의 함숫값은 꼭짓점에서 최소 혹은 최대가 된다.
 도함수의 함숫값은 원함수에서 미분계수를 의미하므로 변곡점에서 미분계수는 최소 혹은 최대가 된다.

예제(6) 18학년도 9월 평가원 20번

삼차함수 $f(x)$ 와 실수 t 에 대하여 곡선 $y=f(x)$ 와 직선 $y=-x+t$ 의 교점의 개수를 $g(t)$ 라 하자.
<보기>에서 옳은 것만을 있는 대로 고른 것은? [4점]

<보 기>

- ㄱ. $f(x)=x^3$ 이면 함수 $g(t)$ 는 상수함수이다.
- ㄴ. 삼차함수 $f(x)$ 에 대하여, $g(1)=2$ 이면 $g(t)=3$ 인 t 가 존재한다.
- ㄷ. 함수 $g(t)$ 가 상수함수이면, 삼차함수 $f(x)$ 의 극값은 존재하지 않는다.

① ㄱ

② ㄷ

③ ㄱ, ㄴ

④ ㄴ, ㄷ

⑤ ㄱ, ㄴ, ㄷ



문제에서 새롭게 정의한 함수인 $g(t)$ 가 등장했으므로 빠르게 $g(t)$ 라는 함수를 이해해야 한다.

새롭게 정의한 함수에서 가장 중요한 것은 정의역과 치역의 실질적 의미이다.

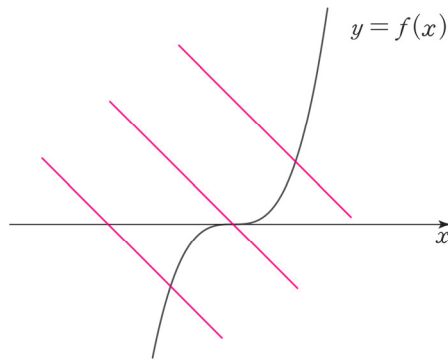
정의역(t) : t 에 따라 기울기가 -1 인 일차함수가 위아래로 움직인다.

치역($g(t)$) : 기울기가 -1 인 직선과 삼차함수 $f(x)$ 의 교점의 개수

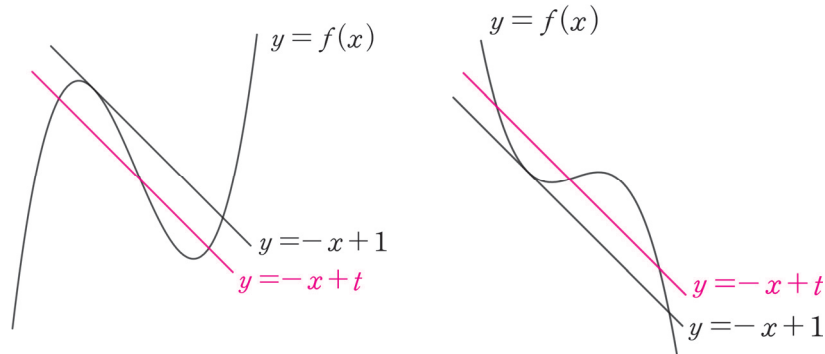
포인트는 치역이 '교점의 개수'라는 점이다. $g(t)$ 라는 함수를 제대로 이해했으니 보기로 들어가자.

1. $y = x^3$ 의 그래프를 그려 본다면 쉽게 파악할 수 있는 보기이다.

모든 실수 t 에 대하여 $g(t) = 1$ 이므로 함수 $g(t)$ 는 상수함수이다. (O)



2. $g(1) = 2$ 이므로, 직선 $y = -x + 1$ 와 곡선 $f(x)$ 의 교점이 2개다. 즉, 한 점에서 접하고 한 점에서 만난다. 조건을 만족시키도록 곡선 $f(x)$ 와 직선 $y = -x + 1$ 의 위치 관계를 그래프로 표현하면 $f(x)$ 의 최고차항의 계수에 따라 다음과 같이 두 가지 경우가 가능하다.



당연히 $g(t) = 3$ 인 t 가 존재한다. (O)

3. 변곡점을 다루는 중요한 보기이다. 해설을 보면서 \subset 보기와 변곡점의 연관성을 잘 공부하길 바란다.

함수 $g(t)$ 가 상수함수이면, 삼차함수 $f(x)$ 의 극값은 존재하지 않는다.

이 진술은 전형적인 $\neg \supset \subset$ 함답형 문항의 ‘단정적 진술’이면서, 조건문($p \rightarrow q$)에 해당한다.

태도 : 단정적 진술의 참, 거짓을 판별하기 위해서는 반례를 찾으려고 하자.

\subset 과 같은 ‘ $p \rightarrow q$ 조건문’의 경우에는 ‘ $p \rightarrow \sim q$ 에 해당하는 케이스’가 반례가 되겠다. 함수 $g(t)$ 가 상수함수일 때, 삼차함수 $f(x)$ 가 극값을 가지는 케이스를 찾으면 되는데 그렇게 쉽지는 않다. 함수 $g(t)$ 가 상수함수인 모든 경우를 따지기는 어렵기 때문이다.

따라서 ‘대우명제’를 생각할 수 있어야 한다. $p \rightarrow q$ 가 아닌 $\sim q \rightarrow \sim p$ 로 바라보자.

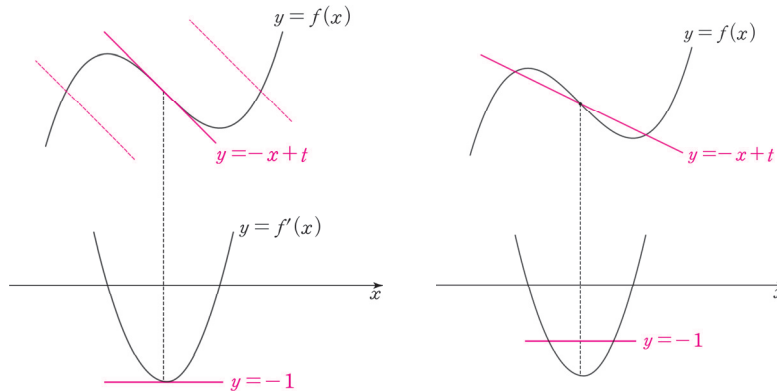
함수 $g(t)$ 가 상수함수이면, 삼차함수 $f(x)$ 의 극값은 존재하지 않는다.
 \Leftrightarrow 삼차함수 $f(x)$ 의 극값이 존재하면, 함수 $g(t)$ 는 상수함수가 아니다.

대우명제의 경우는 반례를 찾기 훨씬 수월하다. 삼차함수 $f(x)$ 의 극값이 존재하는 개형은 딱 하나 존재하기에 $f(x)$ 를 확정할 수 때문이다.

태도 : 조건문인 명제를 그 자체로 따지기 어렵다면 대우 명제를 떠올리자.

(\subset)의 대우 명제의 반례는 ‘ $f(x)$ 의 극값이 존재하면서 $g(t)$ 가 상수함수인 CASE’이다. 변곡점에서 삼차함수의 미분계수가 최소 혹은 최대가 된다는 특징을 떠올리자.

삼차함수 $f(x)$ 의 최고차항의 계수가 양수일 때, ‘(변곡점에서의 기울기) ≥ -1 ’이면 $g(t)$ 는 상수함수이다.



따라서 최고차항의 계수가 양수이고 극값을 갖는 삼차함수 $f(x)$ 가 $x = a$ 에서 변곡점을 가질 때, $-1 \leq f'(a) < 0$ 이면 $g(t)$ 는 상수함수이므로 \subset 은 틀렸다. (X)

옳은 것은 \neg, \supset 이므로 답은 ③!!

comment

도구

삼차함수의 변곡점의 특징

태도

1. 단정적 진술의 참, 거짓을 판별하기 위해서 반례를 찾자.
2. 조건문인 명제를 그 자체로 따지기 어렵다면 ‘대우명제’를 떠올리자.

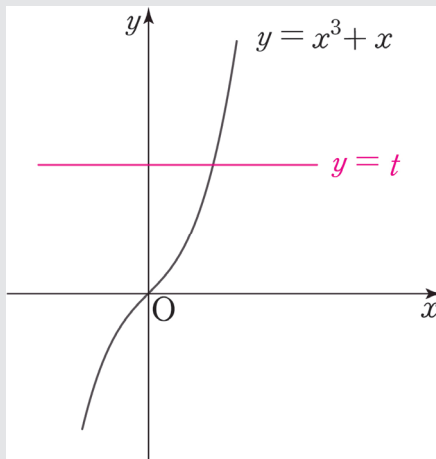
※ 차이함수 풀이

차이함수는 <Chapter 5. 도함수의 활용>에서 자세히 다룬다. 아직 차이함수를 배우기 전이지만 이 풀이를 이해하는 데에는 큰 어려움이 없을 것이다. 차이함수 풀이가 출제 의도인지는 확신이 들진 않지만 충분히 좋은 풀이이므로 알아두자.

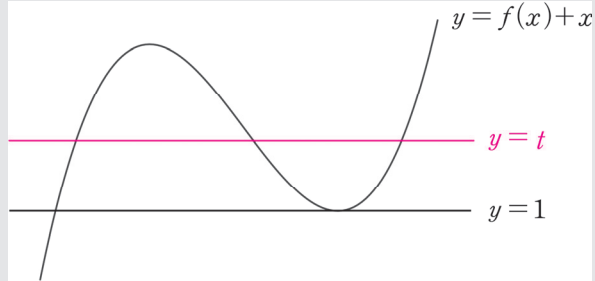
$y = f(x)$ 와 $-x + t$ 의 교점의 개수는 삼차함수와 일차함수의 교점의 개수인데, **삼차함수와 일차함수를 따로따로 보기 불편할 수도 있다.**

$f(x) = -x + t$ 의 실근은 $f(x) + x = t$ 의 실근과 동일하므로 **$y = f(x) + x$ 와 $y = t$ 의 교점의 개수로 보자.** 이 경우 **삼차함수와 x 축과 평행한 직선의 교점**이므로 비교적 수월하게 관찰할 수 있다.

1. $y = x^3 + x$ 와 $y = t$ 의 교점을 관찰하자. $y' = 3x^2 + 1$ 이므로 $y = x^3 + x$ 은 극값을 갖지 않는다. 따라서 교점의 개수는 항상 1이다. (O)



2. $g(1) = 2$ 이므로 방정식 $f(x) + x = 1$ 의 실근의 개수가 2이다.
 $f(x) + x$ 도 마찬가지로 삼차함수이므로 다음과 같이 그래프를 그릴 수 있다.



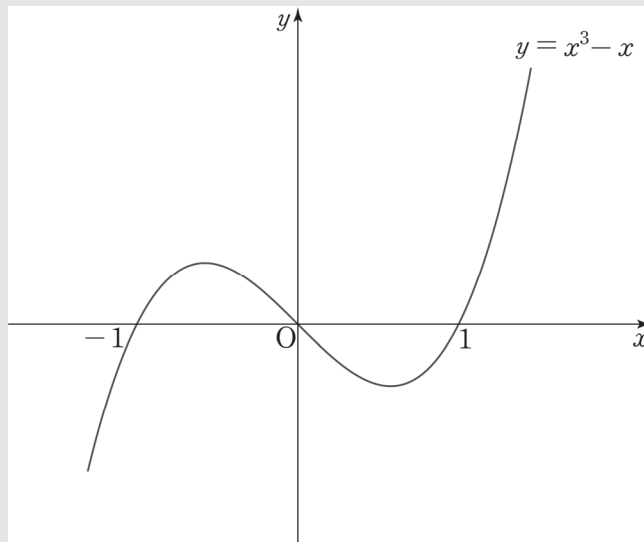
$g(t) = 3$ 인 t 는 당연히 존재한다. (O)

3. ' $g(t)$ 는 상수함수이다.'는 ' $f(x) + x$ 의 극값이 존재하지 않는다.'와 같으므로 선지 (ㄷ)을 다음과 같이 서술할 수 있다.

함수 $g(t)$ 가 상수함수이면, 삼차함수 $f(x)$ 의 극값은 존재하지 않는다.

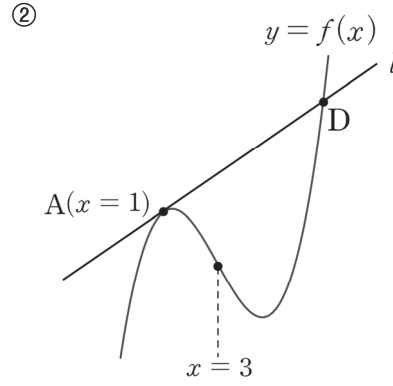
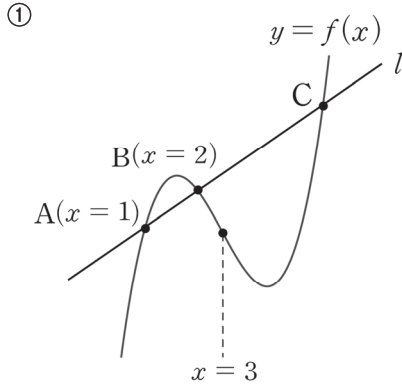
⇔ 함수 $f(x) + x$ 의 극값이 존재하지 않으면 삼차함수 $f(x)$ 의 극값은 존재하지 않는다.

$f(x) + x$ 를 극값이 존재하지 않는 가장 대표적인 삼차함수인 x^3 라고 한다면,
 $f(x) = x^3 - x$ 가 되고 $f(x)$ 의 극값은 존재한다. 반례가 존재하므로 ㄷ은 틀렸다. (X)



(3) $3 \times (\text{변곡점의 } x\text{좌표}) = \text{삼차방정식의 세 근의 합}$

Q) 아래 그림에서 삼차함수 $f(x)$ 의 변곡점의 x 좌표가 3일 때, 점 C의 x 좌표와 점 D의 x 좌표는?



A) 점 C의 x 좌표는 6이고, 점 D의 x 좌표는 7이다. 지금부터 천천히 그 이유를 알아보자.

$$y = ax^3 + bx^2 + cx + d, \quad y' = 3ax^2 + 2bx + c \quad (\text{단, } a \neq 0)$$

변곡점의 x 좌표는 이차함수의 꼭짓점의 x 좌표와 같으므로 변곡점의 x 좌표 : $-\frac{b}{3a}$

(혹은 두 번 미분하여 구할 수 있다. $y'' = 6ax + 2b = 0$ 에서 $x = -\frac{b}{3a}$)

근과 계수의 관계에 의해 삼차방정식 $ax^3 + bx^2 + cx + d = 0$ 의 세 근의 합 : $-\frac{b}{a}$

$\therefore 3 \times (\text{변곡점의 } x\text{좌표}) = \text{삼차방정식의 세 근의 합}$

이 내용을 바탕으로 위의 두 그림을 다시 보자.

그림 ①에서 점 C의 x 좌표를 c 라 하고, 직선 l 의 방정식을 $y = g(x)$ 라 하자.

그림 ②에서 점 D의 x 좌표를 d 라 하고, 직선 l 의 방정식을 $y = h(x)$ 라 하자.

① 삼차방정식 $f(x) - g(x) = 0$ 의 서로 다른 세 실근은 1, 2, c 이다.

② 삼차방정식 $f(x) - h(x) = 0$ 의 세 실근은 1, 1, d 이다.

한편, 삼차함수와 직선을 연립한 삼차방정식에서 직선은 삼차함수의 삼차항과 이차항에 아무런 영향도 주지 않는다.

(변곡점의 x 좌표)와 (삼차방정식의 세 근의 합)은 삼차항과 이차항에만 영향받으므로 삼차함수의 그래프와 직선이 만날 때에도 ' $3 \times (\text{변곡점의 } x\text{좌표}) = \text{삼차방정식의 세 근의 합}$ '은 유효하다!

① $f(x) - g(x)$ 의 변곡점의 x 좌표는 3이므로 $3 \times 3 = 1 + 2 + c \therefore c = 6$

② $f(x) - h(x)$ 의 변곡점의 x 좌표는 3이므로 $3 \times 3 = 1 + 1 + d \therefore d = 7$

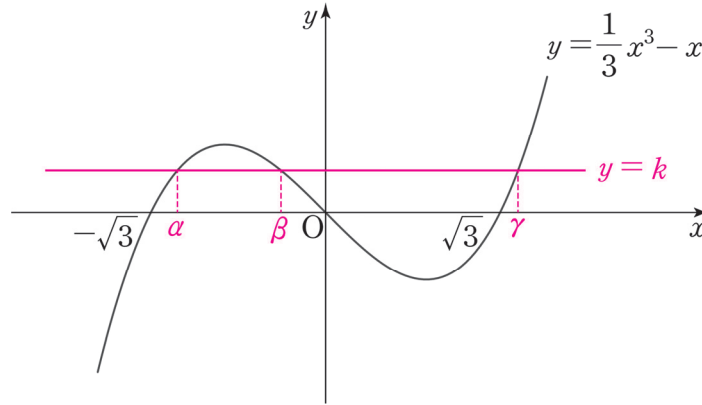
예제(7) 05학년도 수능 가형 24번

x 에 대한 삼차방정식 $\frac{1}{3}x^3 - x = k$ 가 서로 다른 세 실근 α, β, γ 를 가진다. 실수 k 에 대하여 $|\alpha| + |\beta| + |\gamma|$ 의 최솟값을 m 이라 할 때, m^2 의 값을 구하시오. [4점]



1. x 에 대한 삼차방정식 $\frac{1}{3}x^3 - x = k$ 의 근 \Leftrightarrow 함수 $y = \frac{1}{3}x^3 - x$ 와 함수 $y = k$ 의 교점

$y = \frac{1}{3}x^3 - x$ 와 $y = k$ 그래프를 그리자.



※ $|\alpha| + |\beta| + |\gamma|$ 의 최솟값을 구하는 데에 k 의 부호와 α, β, γ 의 대소관계는 상관없으므로 $\alpha < \beta < \gamma, k \geq 0$ 으로 설정했다.

2. 문제에서 요구하는 $|\alpha| + |\beta| + |\gamma|$ 은 서로 다른 세 교점의 합과 굉장히 유사하다.

삼차함수의 '근과 계수의 관계'에 의해 $\alpha + \beta + \gamma = 0$

$\alpha + \beta + \gamma$ 와 $|\alpha| + |\beta| + |\gamma|$ 를 연결지어야 하는데 이 둘을 어떻게 연결지을 수 있을까?

여기서 그래프 관찰의 중요성이 드러난다. 그래프를 관찰하면 서로 다른 세 실근의 '부호'를 알 수 있다.

$\alpha, \beta < 0, \gamma > 0$

따라서 $|\alpha| + |\beta| + |\gamma| = -(\alpha + \beta) + \gamma$ 이 되고 $\alpha + \beta = -\gamma$ 이므로

$|\alpha| + |\beta| + |\gamma| = -(\alpha + \beta) + \gamma = 2\gamma$

γ 은 $k = 0$ 일 때 최솟값 $\sqrt{3}$ 을 가지므로 $|\alpha| + |\beta| + |\gamma|$ 의 최솟값은 $2\sqrt{3}$ 이다.

$\therefore (2\sqrt{3})^2 = 12$

답은 12!!

comment

1. α, β, γ 의 부호를 알기 위해서는 그래프를 관찰해야만 했고, $|\alpha| + |\beta| + |\gamma|$ 을 보고 근과 계수의 관계를 떠올려 삼차방정식의 세 근의 합을 이용할 수 있어야 했다. 식과 그래프 모두가 필요했던 문항이므로 굉장히 잘 만든 문항이다. 특히나 그래프를 필수적으로 관찰해야 했다는 점이 너무 마음에 든다.

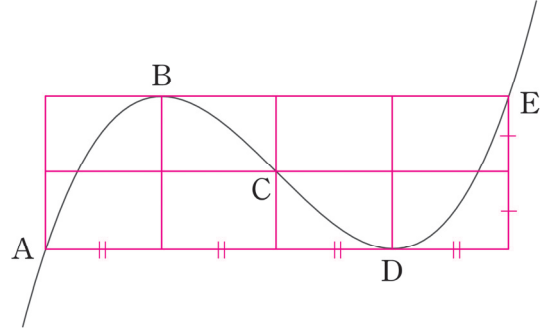
2. $|\alpha| + |\beta| + |\gamma|$ 의 최솟값을 구하는 데에 k 의 부호와 α, β, γ 의 대소관계는 상관없다고 한 것이 짝짝하다면 직접 $k \leq 0$ 일 때를 따져보면 된다. 제시된 삼차함수는 '기함수'이기 때문에 $k \leq 0$ 일 때에도 똑같은 답이 나온다.

2. 삼차함수의 비율

(1) 1 : 1 : 1

최고차항의 계수가 양수인 삼차함수가 점 C에서 변곡점, 두 점 B, D에서 극값을 가질 때, 점 A, B, C, D, E의 x 좌표는 순서대로 등차수열을 이룬다.

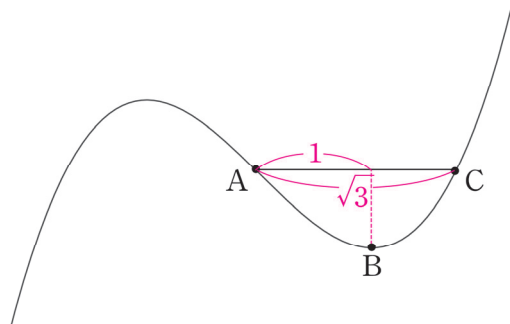
또한, 두 점 A, E는 점 C에 대하여 대칭이고, 두 점 B, D는 점 C에 대하여 대칭이다.
(그래프로 이해하자.)



설명을 외우기보다는 위의 그림 자체를 이해하여 문제에서 자유자재로 활용하는 것이 중요하다.
1 : 1 : 1 : 1 비율 혹은 1 : 2 비율로도 불리지만 모두 의미는 같다.

(2) 1 : $\sqrt{3}$

최고차항의 계수가 양수인 삼차함수가 점 A에서 변곡점이고 점 B에서 극값을 가질 때, A, B, C의 x 좌표를 각각 a, b, c 라 하자. 이때, $b - a : c - a = 1 : \sqrt{3}$ 이다.
(그래프로 이해하자.)



위의 두 비율은 삼차함수 그래프의 본질적 특성이므로 삼차함수의 최고차항의 계수가 음수일 때도 성립한다.

예시 04학년도 수능 10번

삼차함수 $y = f(x)$ 는 $x = 1$ 에서 극값을 갖고, 그 그래프가 원점에 대하여 대칭일 때, 이 그래프와 x 축과의 교점의 x 좌표 중에서 양수인 것은?

① $\sqrt{2}$

② $\sqrt{3}$

③ 2

④ $\sqrt{5}$

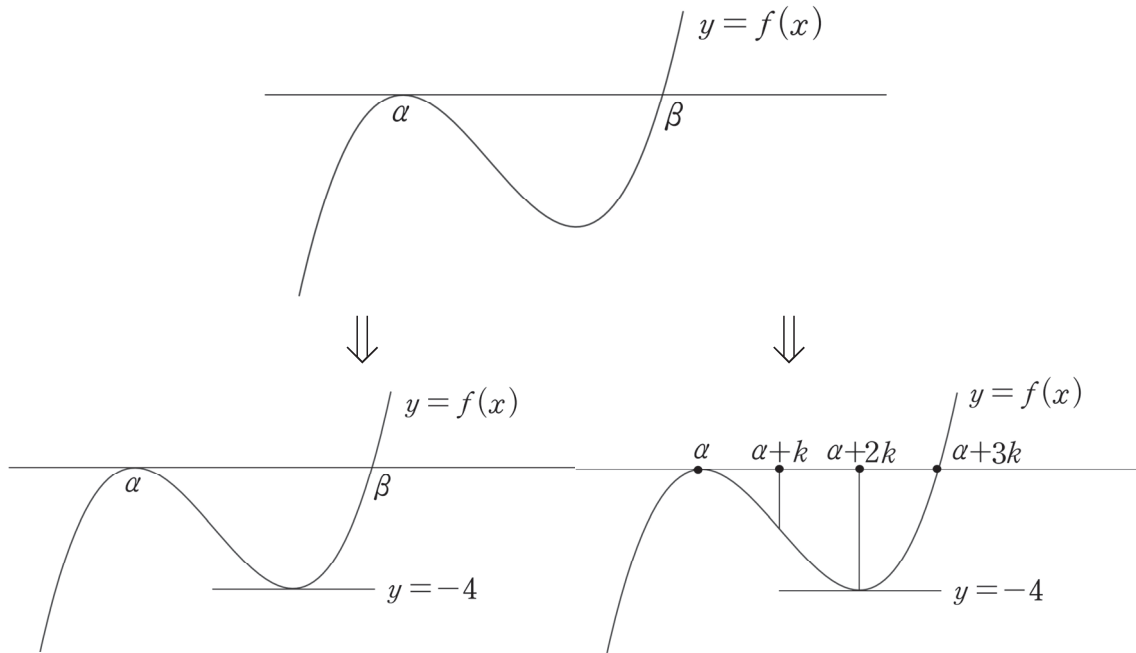
⑤ $\sqrt{6}$



1: $\sqrt{3}$ 비율에 따라 답은 ②!!

앞으로는 1:1:1 비율과 1: $\sqrt{3}$ 비율은 외워둬으로써, 매번 삼차함수를 미분하여 x 좌표를 찾는 수고를 덜자.

(3) 삼차함수 비율과 미지수 설정



다음과 같이 극솟값이 -4 인 삼차함수가 제시되었을 때, 비율 관계를 고려한다면 $\beta = \alpha + 3k$ 로 설정하는 것이 계산에 훨씬 편하다.

β 를 그대로 사용한 채 삼차함수의 극솟값을 구한다고 생각해보자.

$f(x) = (x - \alpha)^2(x - \beta)$ 에서 삼차함수의 비율에 의해 $f(x)$ 는 $x = \frac{\alpha + 2\beta}{3}$ 에서 극솟값을 갖는다.

그러나 $f\left(\frac{\alpha + 2\beta}{3}\right) = -4$ 를 계산하기는 까다롭다.

반면, $\beta = \alpha + 3k$ 로 설정해보자.

$f(x) = (x - \alpha)^2(x - \alpha - 3k)$ 에서 비율관계에 따라 $x = \alpha + 2k$ 에서 극솟값을 갖는다.

이 경우 계산이 훨씬 간단해진다.

이렇게 삼차함수의 1:1:1 비율에서 1을 k 로 설정하는 것이 실전에서 계산할 때 많은 도움이 되므로 적극 활용하자.

예제(8) 18학년도 사관 20번

최고차항의 계수가 1이고 다음 조건을 만족시키는 모든 삼차함수 $f(x)$ 에 대하여 $f(6)$ 의 최댓값과 최솟값의 합은? [4점]

(가) $f(2) = f'(2) = 0$

(나) 모든 실수 x 에 대하여 $f'(x) \geq -3$ 이다.

① 128

② 144

③ 160

④ 176

⑤ 192



1. 도함수인 이차함수 $f'(x)$ 의 최솟값이 -3 이상임을 적용하여 이차함수의 최솟값 풀이로 풀 수도 있지만 삼차함수 파트에서 배운 내용을 활용해보자.

(나) 모든 실수 x 에 대하여 $f'(x) \geq -3$ 이다.

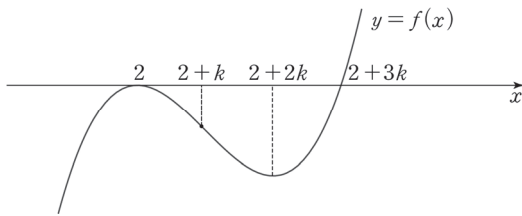
최고차항 계수가 양수인 삼차함수의 미분계수는 변곡점에서 최소가 되므로
'(변곡점에서의 미분계수) ≥ -3 '으로 해석할 수 있다.

조건 (가)에서 $f(x)$ 는 $(x-2)^2$ 을 인수로 가지므로 $f(x)$ 의 식을 다음과 같이 작성할 수 있다.

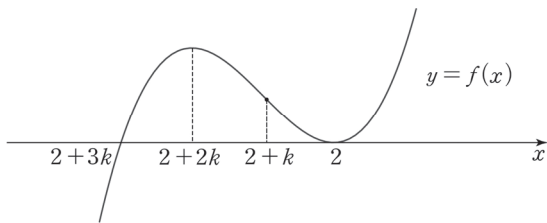
$$f(x) = (x-2)^2(x-k) \quad (k \text{는 실수})$$

삼차함수 비율을 통해 변곡점의 x 좌표를 구한 다음 이를 '(변곡점에서의 미분계수) ≥ -3 '에 대입하여 풀면 된다. 이때, $f(x)$ 의 나머지 인수 $(x-k)$ 를 그대로 살려서 간다면 계산이 많이 복잡해지므로 비율을 고려하여 미지수를 바꿔서 작성하자.

$\langle k > 0 \rangle$



$\langle k < 0 \rangle$



$$f(x) = (x-2)^2(x-2-3k)$$

$k=0$ 인 경우에도 $2=2+k=2+2k=2+3k$ 이므로 변곡점의 x 좌표는 $2+k$ 라 할 수 있다.

2. 삼차함수 비율에 따라 변곡점의 x 좌표는 $2+k$ 이므로 $f'(2+k) \geq -3$

$$f'(x) = 2(x-2)(x-2-3k) + (x-2)^2$$

$$f'(2+k) = 2k(-2k) + k^2 = -3k^2 \geq -3$$

$$\therefore -1 \leq k \leq 1$$

$$f(6) = 16(4-3k) = 64 - 48k \text{이므로 최댓값 } M = 64 + 48, \text{ 최솟값 } m = 64 - 48$$

따라서 $f(6)$ 의 최댓값과 최솟값의 합은 128이다.

답은 ①!!

comment

이차함수의 최솟값 풀이로 풀어도 궁극적으로는 같은 의미이다. 단지 본문에서 학습한 내용을 적용해 보는 차원에서 삼차함수의 특징을 적용해서 푼 것이다.

예제(9) 18학년도 6월 평가원 20번

함수

$$f(x) = \frac{1}{3}x^3 - kx^2 + 1 \quad (k > 0 \text{인 상수})$$

의 그래프 위의 서로 다른 두 점 A, B에서의 접선 l , m 의 기울기가 모두 $3k^2$ 이다. 곡선 $y = f(x)$ 에 접하고 x 축에 평행한 두 직선과 접선 l , m 으로 둘러싸인 도형의 넓이가 24일 때, k 의 값은? [4점]

① $\frac{1}{2}$

② 1

③ $\frac{3}{2}$

④ 2

⑤ $\frac{5}{2}$



1. 두 접선 l , m 의 기울기가 주어졌으므로 방정식 $f'(x) = 3k^2$ 를 풀어서 A, B의 x 좌표를 구하자.

$$f'(x) = x^2 - 2kx = 3k^2$$

$$(x - 3k)(x + k) = 0$$

A, B의 대소관계는 중요하지 않으므로 점 A의 x 좌표를 $-k$, 점 B의 x 좌표를 $3k$ 라 하자.

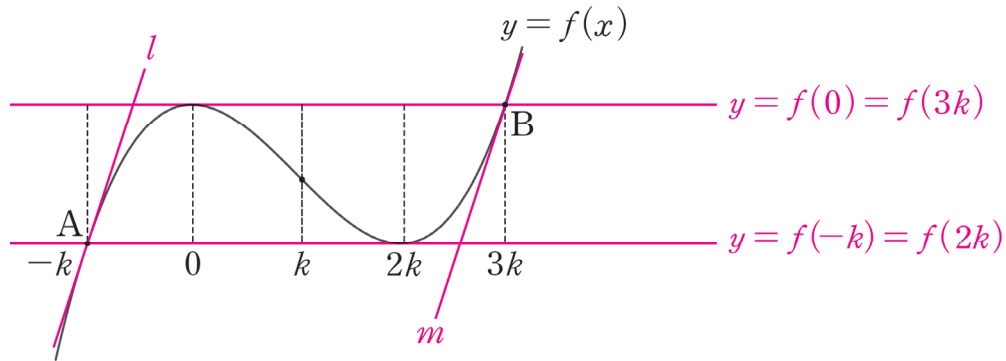
도형의 개형을 파악해야 하고 $f(x)$ 의 식이 주어졌기 때문에 풀이의 기본으로 그래프를 그리는 것은 당연하다. $y = f(x)$ 의 그래프를 그리자. 이런 이유를 차치하고서도 미적분의 핵심은 그래프이고 킬러 문항 중에서 그래프 없이 풀 수 있는 문제는 거의 없다.

태도 : 웬만하면 그래프는 그리고 보라.

$$f'(x) = x^2 - 2kx = 0$$

(극댓값을 가지는 x 좌표) : 0

(극솟값을 가지는 x 좌표) : $2k$



그래프를 관찰함으로써 생성된 도형이 평행사변형임을 파악했다.

이제 우리의 목표는 밑변과 높이를 구하는 것이다.

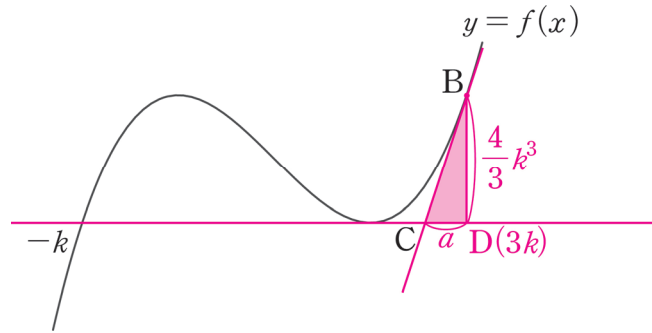
2. 그래프를 보면, 높이는 쉽게 구할 수 있다.

$$(\text{높이}) = (\text{극댓값} - \text{극솟값}) = 1 - \left(1 - \frac{4k^3}{3}\right) = \frac{4k^3}{3}$$

밑변은 높이에 비해 까다롭다.

밑변을 구하는 방법에는 두 가지가 있는데, 어떤 방법일지 고민해보고 다음 페이지를 보자.

(1) 가장 쉬운 방법은 삼각형의 기울기를 이용하는 것이다.



삼각형 BCD에서 (빗변의 기울기) = $(\frac{\text{높이}}{\text{밑변}})$

(빗변의 기울기) : 곡선 $f(x)$ 의 점 B에서의 접선의 기울기 : $3k^2$

$(\frac{\text{높이}}{\text{밑변}})$: $\frac{\frac{4k^3}{3}}{a}$

방정식 $3k^2 = \frac{\frac{4k^3}{3}}{a}$ 을 풀면 $a = \frac{4k}{9}$ 이다.

따라서 밑변의 길이는 $4k - \frac{4k}{9} = \frac{32k}{9}$ 이고, 높이는 $\frac{4k^3}{3}$ 이므로

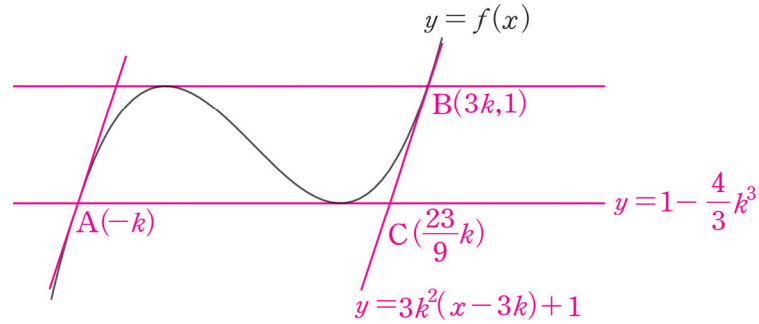
(평행사변형의 넓이) = $\frac{32k}{9} \times \frac{4k^3}{3} = 24, k^4 = \frac{81}{16} \therefore k = \frac{3}{2} (\because k > 0)$

답은 ③!!

※ 이 방법은 다소 발상적이다. 그러나 평가원은 발상적인 풀이가 유일한 풀이가 되도록 문제를 설계하지 않으므로 다른 풀이도 존재한다. 이러한 점이 평가원이 대단하고 믿음직스러운 부분이다. 정직하게 공부하면 평가원은 반드시 보답해준다. 다음 페이지를 보자.

(2) 두 번째 방법은 좌표를 이용하는 것이다.

점 C의 좌표를 구해 평행사변형의 밑변을 구하는 방법이고 이것이 출제 의도일 확률이 높다.



(점 B에서의 접선의 방정식) : $y = 3k^2(x - 3k) + 1$

점 C의 x 좌표를 t 라 할 때, $3k^2(t - 3k) + 1 = 1 - \frac{4}{3}k^3$ 이다.

$3k^2(t - 3k) = -\frac{4}{3}k^3$ 에서 $k > 0$ 이므로 양변을 $3k^2$ 으로 나누자.

$$t - 3k = -\frac{4}{9}k$$

$$\therefore t = \frac{23}{9}k$$

$$(\text{평행사변형의 밑변의 길이}) = (\text{점 C의 } x\text{좌표}) - (\text{점 A의 } x\text{좌표}) = \frac{23k}{9} - (-k) = \frac{32k}{9}$$

계산을 마저 해주면 (1)과 똑같은 답이 나온다.

함수

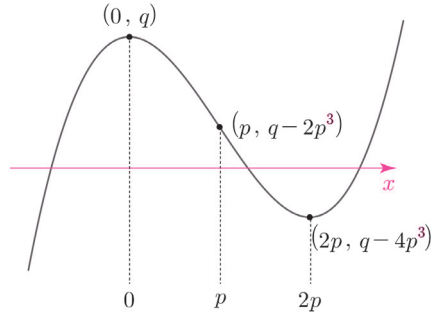
$$f(x) = x^3 - 3px^2 + q$$

가 다음 조건을 만족시키도록 하는 25 이하의 두 자연수 p, q 의 모든 순서쌍 (p, q) 의 개수를 구하시오. [4점]

- (가) 함수 $|f(x)|$ 가 $x = a$ 에서 극대 또는 극소가 되도록 하는 모든 실수 a 의 개수는 5이다.
- (나) 닫힌구간 $[-1, 1]$ 에서 함수 $|f(x)|$ 의 최댓값과 닫힌구간 $[-2, 2]$ 에서 함수 $|f(x)|$ 의 최댓값은 같다.



1. 함수 $|f(x)|$ 가 조건 (가)를 만족시키려면 함수 $f(x)$ 가 극값을 가져야 하고, 극솟값과 극댓값의 부호가 달라야 한다.



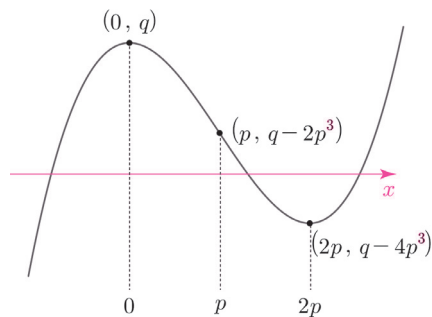
$f(x) = x^3 - 3px^2 + q$ 에서 $f'(x) = 3x(x - 2p)$ 이므로

함수 $f(x)$ 는 $x = 0$ 에서 극댓값을 가지고, $x = 2p$ 에서 극솟값을 가지고, $x = p$ 에서 변곡점을 가진다.

$f(0) > 0$, $f(2p) < 0$ 에서 $q > 0$, $8p^3 - 12p^3 + q = q - 4p^3 < 0$ 이다. 따라서 $0 < q < 4p^3$ 이다.

2. 주어진 만족시키는 순서쌍을 구해보자. 순서쌍을 한꺼번에 생각하기가 어렵다. 일단 p 를 고정해놓고 조건을 만족시키는 q 를 찾자.

도구 : 두 개 이상의 변수가 제시되면, 하나를 고정한 채로 다른 하나를 관찰한다.



주어진 상황을 보자. $f(x) = x^3 - 3px^2 + q$ 의 그래프에서 구간 $[-1, 1]$ 과 구간 $[-2, 2]$ 를 살펴보자.

함수 $f(x)$ 는 구간 $[-1, 1]$ 에서 $x = 0$ 에서 최댓값 q 를 갖는다.

만일 $|f(-1)| > f(0)$ 이면 함수 $|f(x)|$ 는 구간 $[-1, 1]$ 에서 최댓값 $|f(-1)|$ 을 갖는다.

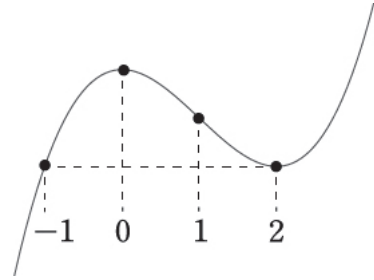
하지만 $|f(-1)| < |f(-2)|$ 이므로 조건 (나)에 모순이 되어 $|f(-1)| > f(0)$ 이 아니다.

따라서 함수 $|f(x)|$ 또한 구간 $[-1, 1]$ 에서 $x = 0$ 에서 최댓값 q 를 가지므로 함수 $|f(x)|$ 는 구간 $[-2, 2]$ 에서 최댓값 q 를 가져야 한다.

(1) $p = 1$ 일 때, $0 < q < 4p^3$ 에서 $0 < q < 4$ 이다.

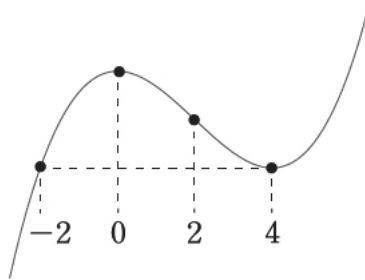
$|f(x)| = |x^3 - 3x^2 + q|$ 에서 구간 $[-2, 2]$ 에서의 최댓값을 구해보자.

$f(-2) = q - 20$ 에서 $f(-2) \geq 0$ 이면 $q \geq 20$ 이므로 $0 < q < 4$ 라는 조건에 모순된다.



$f(-2) < 0$ 이면 $|f(-2)| \leq f(0)$ 이어야 한다. $20 - q \leq q$ 에서 $q \geq 10$ 이므로 $0 < q < 4$ 라는 조건에 모순된다.

(2) $p = 2$ 일 때, $0 < q < 4p^3$ 에서 $0 < q < 32$ 이다. q 는 25 이하의 자연수이므로 $0 < q \leq 25$ 이다.



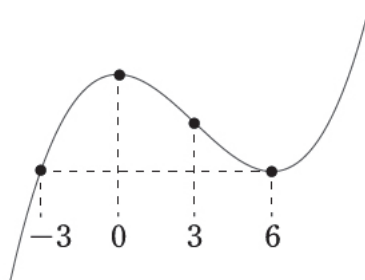
$|f(x)| = |x^3 - 6x^2 + q|$ 에서 구간 $[-2, 2]$ 에서의 최댓값을 구해보자.

$f(-2) = q - 32$ 에서 $f(-2) \geq 0$ 이면 $q \geq 32$ 이므로 $0 < q \leq 25$ 라는 조건에 모순된다.

$f(-2) < 0$ 이면 $|f(-2)| \leq f(0)$ 이어야 한다. $32 - q \leq q$ 에서 $q \geq 16$ 이므로 $16 \leq q \leq 25$ 이다.

따라서 (2)를 만족시키는 순서쌍 (p, q) 의 개수는 $25 - 16 + 1 = 10$ 이다.

(3) $p = 3$ 일 때, q 는 25 이하의 자연수이므로 $0 < q \leq 25$ 이다.



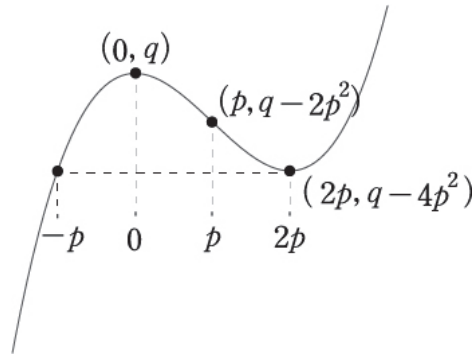
$|f(x)| = |x^3 - 9x^2 + q|$ 에서 구간 $[-2, 2]$ 에서의 최댓값을 구해보자.

$f(-2) = q - 44$ 에서 $f(-2) \geq 0$ 이면 $q \geq 44$ 이므로 $0 < q \leq 25$ 라는 조건에 모순된다.

$f(-2) < 0$ 이면 $|f(-2)| \leq f(0)$ 이어야 한다. $44 - q \leq q$ 에서 $q \geq 22$ 이므로 $22 \leq q \leq 25$ 이다.

따라서 (3)을 만족시키는 순서쌍 (p, q) 의 개수는 $25 - 22 + 1 = 4$ 이다

(4) $p \geq 4$ 일 때, q 는 25 이하의 자연수이므로 $0 < q \leq 25$ 이다.



$|f(x)| = |x^3 - 3px^2 + q|$ 에서 구간 $[-2, 2]$ 에서의 최댓값을 구해보자.

$f(-2) = q - 8 - 12p$ 에서 $f(-2) \geq 0$ 이면 $q \geq 8 + 12p$ 이므로 $0 < q \leq 25$ 라는 조건에 모순된다.

$f(-2) < 0$ 이면 $|f(-2)| \leq f(0)$ 이어야 한다.

$8 + 12p - q \leq q$ 에서 $q \geq 4 + 6p$ 이므로 $0 < q \leq 25$ 라는 조건에 모순된다.

(1), (2), (3), (4)에 의하여 구하고자 하는 순서쌍 (p, q) 의 개수는 $10 + 4 = 14$ 이다.

답은 14!!

comment

1. 이 문제가 어려운 이유는 두 개의 변수 p, q 가 존재하기 때문이다. 수학II에서 변수가 2개 이상이고 개수와 관련된 문항의 해결법은 두 변수를 복합적으로 고려하는 것이 아니라, 하나의 변수를 고정해놓고 다른 하나의 변수를 관찰하는 것이다.

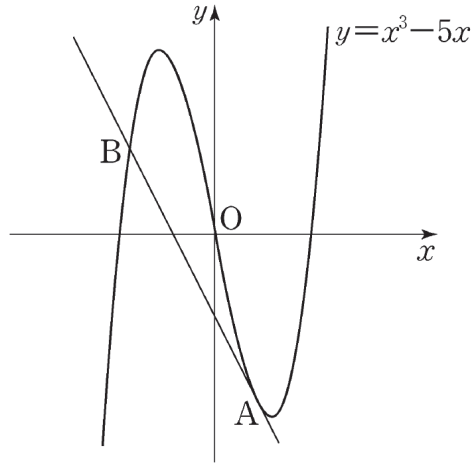
이 문제에서 확실한 것은 ' $y = f(x)$ 의 비율을 형성하는 $x = -p, 0, p, 2p$ '와 '두 닫힌구간 $[-1, 1], [-2, 2]$ '이다. 따라서 p 에 자연수를 대입하면서 그에 따라 조건을 만족시키는 q 의 개수를 찾는 것이 필연적인 길이다.

2. 삼차함수가 제시되면 비율은 기본적으로 고려해야 한다. 이 문제도 삼차함수의 비율을 고려하지 않으면 해결하기 까다로워진다.

3. 삼차함수 비율 확장 : 삼차함수와 접선이 이루는 비율

예제(11) 13학년도 6월 평가원 17번

곡선 $y = x^3 - 5x$ 위의 점 $A(1, -4)$ 에서의 접선이 점 A 가 아닌 점 B 에서 곡선과 만난다. 선분 AB 의 길이는? [4점]



① $\sqrt{30}$

② $\sqrt{35}$

③ $2\sqrt{10}$

④ $3\sqrt{5}$

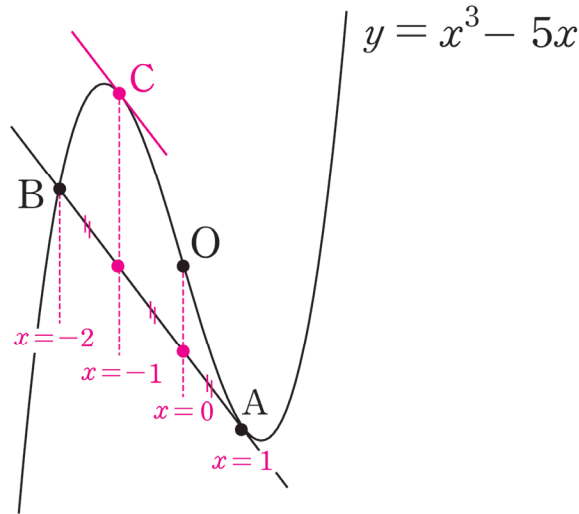
⑤ $5\sqrt{2}$



1. 정석적으로 풀자면,

곡선 $y = x^3 - 5x$ 위의 점 $A(1, -4)$ 에서의 접선의 방정식을 작성한 다음,
접선과 삼차함수를 연립하여 교점 B를 구하는 식으로 풀면 된다.

그러나 '삼차함수와 접선이 이루는 비율'을 이용하면 그래프를 보자마자 바로 교점 B의 x 좌표를 구할 수 있다. 그래프를 통해 한 번에 이해하자.



2. 점 O는 $y = x^3 - 5x$ 의 변곡점이다.

그래프에서 보이는 바와 같이 점 $A(1, -4)$ 에서의 미분계수와 동일한 미분계수를 가지는 곳을 점 C라 할 때 점 B, C, O, A의 x 좌표는 이 순서대로 등차수열을 이룬다.

점 A의 x 좌표가 1이고

점 O의 x 좌표는 0이므로

1 : 1 : 1 비율에 의해 B의 x 좌표는 -2 이다. (그래프를 통해 이해하자.)

※ 꼭 삼차함수의 비율 확장이 아니어도 앞서 배운

' $3 \times (\text{변곡점의 } x \text{좌표}) = \text{삼차방정식의 세 근의 합}$ ' 공식을 이용할 수도 있다.

$y = x^3 - 5x$ 의 변곡점의 x 좌표는 0이므로 $0 \times 3 = 1 + 1 - 2$ 이다.

따라서 점 B의 x 좌표는 -2 이다.

따라서 $A(1, -4)$, $B(-2, 2)$ 이므로 선분 AB의 길이는 $3\sqrt{5}$ 이다.

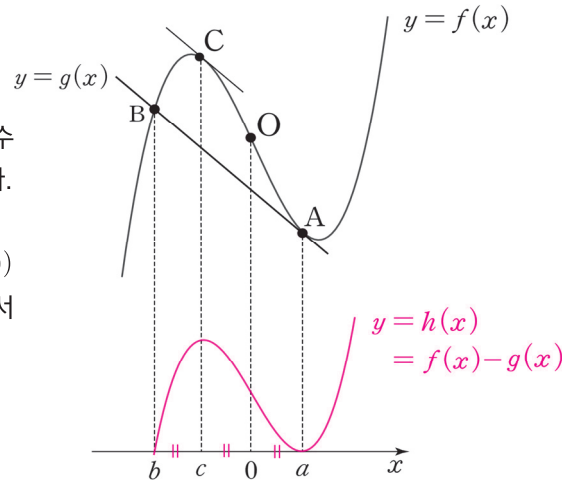
답은 ④!!

삼차함수와 접선의 비율에서도 1:1:1 비율이 나타나는 이유를 차이함수를 통해 알아보자. 차이함수는 함수의 차를 이용하여 새로운 함수를 관찰하는 방식으로 <Chapter 5. 도함수의 활용>에서 자세히 배운다.

삼차함수 $f(x) = x^3 - 5x$ 와 두 점 A, B를 지나는 일차함수 $g(x)$ 의 차이함수를 $h(x)$ 라 하면 $h(x) = f(x) - g(x)$ 이다.

$f(x)$ 와 $g(x)$ 는 점 $B(b, f(b))$ 에서 만나고 점 $A(a, f(a))$ 에서 접하므로 $h(x)$ 는 $x = b$ 에서 x 축을 지나고 $x = a$ 에서 x 축에 접하는 삼차함수이다.

여기서 잠시 변곡점에 대해 복습하자.



삼차함수 $y = ax^3 + bx^2 + cx + d (a \neq 0)$
 → 도함수 : $y' = 3ax^2 + 2bx + c$
 변곡점의 x 좌표는 이차함수의 꼭짓점의 x 좌표와 같으므로 변곡점의 x 좌표 : $-\frac{b}{3a}$
 (혹은 $y'' = 6ax + 2b = 0$ 을 만족하는 $x = -\frac{b}{3a}$)

즉, 변곡점은 삼차함수의 삼차항과 이차항에만 영향을 받고 일차항, 상수항과는 아무 관련이 없다.

삼차함수 $f(x)$ 에서 일차함수 $g(x)$ 를 빼더라도 $f(x)$ 의 삼차항과 이차항은 그대로 유지되기 때문에 삼차함수 $f(x)$ 와 차이함수 $h(x)$ 의 변곡점의 x 좌표는 0으로 동일하다.

따라서 삼차함수의 비율에 의해 네 점 B, C, O, A의 x 좌표는 이 순서대로 등차수열을 이룬다.

Q) $h(x)$ 에서 $h'(c) = 0$ 인 이유는?

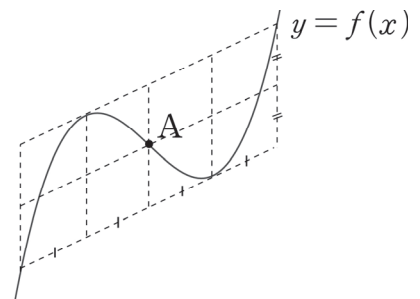
A1) $f'(c) = f'(a) = g'(c)$ 이므로 $h'(c) = f'(c) - g'(c) = 0$ 이다.

A2) 변곡점에 대해 대칭인 두 점에서의 미분계수가 같다는 점을 이용해도 좋다.

$$f'(c) = f'(a) \text{이므로 } \frac{c+a}{2} = 0 \text{이다.}$$

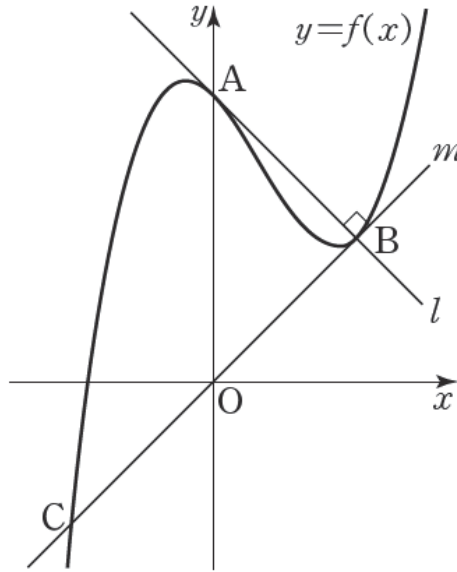
이때, $h(x)$ 는 $x = a$ 에서 극솟값, $x = 0$ 에서 변곡점을 가지므로 $x = c$ 에서는 극댓값을 가진다.

※ 오른쪽 그림을 통해 삼차함수와 접선이 이루는 비율을 직관적으로 이해하자.



예제(12) 16학년도 사관 21번

최고차항의 계수가 1인 삼차함수 $f(x)$ 에 대하여 곡선 $y=f(x)$ 가 y 축과 만나는 점을 A라 하자. 곡선 $y=f(x)$ 위의 점 A에서의 접선을 l 이라 할 때, 직선 l 이 곡선 $y=f(x)$ 와 만나는 점 중에서 A가 아닌 점을 B라 하자. 또, 곡선 $y=f(x)$ 위의 점 B에서의 접선을 m 이라 할 때, 직선 m 이 곡선 $y=f(x)$ 와 만나는 점 중에서 B가 아닌 점을 C라 하자. 두 직선 l, m 이 서로 수직이고 직선 m 의 방정식이 $y=x$ 일 때, 곡선 $y=f(x)$ 위의 점 C에서의 접선의 기울기는? (단, $f(0) > 0$ 이다.)
[4점]



① 8

② 9

③ 10

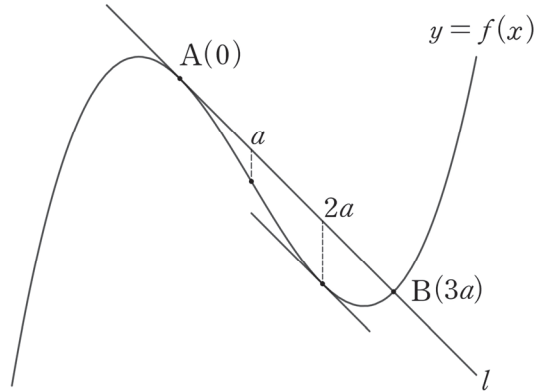
④ 11

⑤ 12



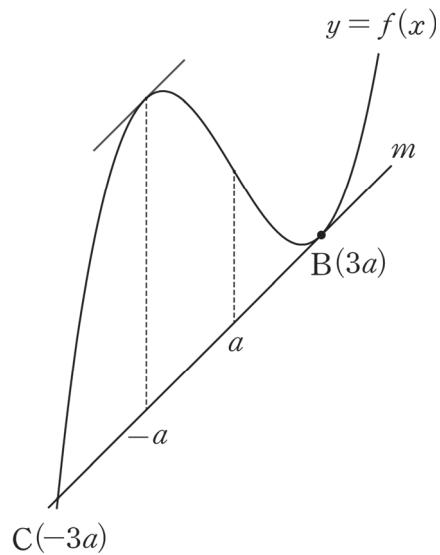
1. 삼차함수와 두 개의 접선이 제시되었다. 삼차함수와 접선이 이루는 비율을 이용하자.

우선 접선 l 부터 살펴보자.



점 A는 y 축 위에 존재하므로 x 좌표는 0이다. 따라서 $f(x)$ 의 변곡점의 x 좌표를 a 라 할 때, 점 B의 x 좌표는 $3a$ 이다. (이처럼 스스로 미지수를 설정해서 문제 속 상황을 미지수로 나타내는 능력은 매우 중요하다.)

다음으로 접선 m 을 살펴보자.



점 B의 x 좌표가 $3a$ 이고 $f(x)$ 의 변곡점의 x 좌표가 a 이므로 점 C의 x 좌표는 $-3a$ 이다.

2. 두 직선 l, m 이 서로 수직이다. 따라서 두 직선 l, m 의 기울기의 곱은 -1 이다.

직선 m 은 $y = x$ 이므로 m 의 기울기는 1 이다. 따라서 직선 l 의 기울기는 -1 이다.

직선 l 의 기울기 = 점 A 와 점 B 를 지나는 직선의 기울기

점 B 는 직선 m , 즉 $y = x$ 위에 존재하므로 B 의 좌표는 $(3a, 3a)$ 이다.

점 A 의 좌표를 $(0, k)$ 라 할 때 $\frac{3a-k}{3a-0} = -1, k = 6a$ 이므로 점 A 의 좌표는 $(0, 6a)$ 이다.

3. 최종 목표인 곡선 $y = f(x)$ 위의 점 C 에서의 접선의 기울기를 구하자.

곡선 $y = f(x)$ 위의 점 C 에서의 접선의 기울기를 알기 위해서는 $f(x)$ 의 식을 알아내야 한다.

접선이 제시되었으므로 차이함수를 이용하자.

직선 m 의 방정식은 $y = x$ 이므로 $f(x)$ 와 m 의 차이함수를 이용하면

$$f(x) - x = (x + 3a)(x - 3a)^2$$

점 A $(0, 6a)$ 는 곡선 $f(x)$ 위에 존재하므로 $f(0) = 6a$ 을 대입하면

$$f(0) - 0 = 3a \times (-3a)^2 = 27a^3 = 6a$$

방정식 $27a^3 = 6a$ 을 풀어주면,

$$27a^3 - 6a = 0$$

$$a(27a^2 - 6) = 0$$

$$\therefore a = \sqrt{\frac{2}{9}} \quad (\because a > 0)$$

4. 점 C 의 x 좌표는 $-3a$ 이므로 곡선 $y = f(x)$ 위의 점 C 에서의 접선의 기울기는 $f'(-3a)$ 이다.

$$f(x) - x = (x + 3a)(x - 3a)^2$$

$$f'(x) - 1 = (x - 3a)^2 + (x + 3a)(2x - 6a)$$

$$f'(-3a) - 1 = (-6a)^2$$

$$f'(-3a) = 36a^2 + 1 = 36 \times \left(\sqrt{\frac{2}{9}}\right)^2 + 1 = 9$$

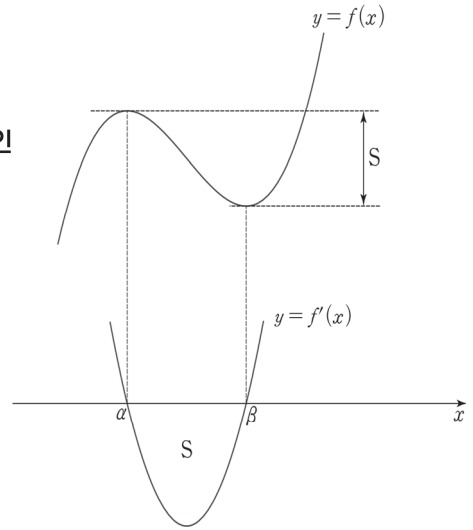
답은 9!!

comment

1. 미지수 설정, 삼차함수 비율, 차이함수가 중요했다. 차이함수는 <Chapter 5>에서 자세히 배운다.
2. 해설은 두 직선 l, m 의 기울기의 곱을 먼저 따졌지만, 차이함수를 먼저 작성하고 난 뒤에 따져도 상관없다. 이런 문항은 명확한 풀이 순서가 정해져 있지 않다.

4. 이차함수 넓이 공식과 삼차함수 극값의 관계

최고차항의 계수가 a ($a > 0$)인 삼차함수 $f(x)$ 가 $x = \alpha$ 에서 극대, $x = \beta$ 에서 극소일 때, 삼차함수 $f(x)$ 의 극값의 차는 도함수인 이차함수 $y = f'(x)$ 의 그래프와 x 축으로 둘러싸인 부분의 넓이와 같으므로 $\frac{3a(\beta - \alpha)^3}{6} = f(\alpha) - f(\beta)$ 이다. (그래프로 이해하자.)



(증명)

$f'(x)$ 는 연속함수이므로 $\int_{\alpha}^{\beta} f'(x)dx = f(\beta) - f(\alpha)$ 이고

$\int_{\alpha}^{\beta} |f'(x)| dx = f(\alpha) - f(\beta)$ 이다.

삼차함수 $f(x)$ 의 최고차항의 계수는 a 이므로 이차함수 $f'(x)$ 의 최고차항 계수는 $3a$ 이다.

이때, 이차함수 넓이 공식에 의하여 $y = f'(x)$ 의 그래프와 x 축으로 둘러싸인 부분의 넓이($\int_{\alpha}^{\beta} |f'(x)| dx$)는

$\frac{3a(\beta - \alpha)^3}{6}$ 이므로 $\frac{3a(\beta - \alpha)^3}{6} = f(\alpha) - f(\beta)$ 이다.

$f(x)$ 의 최고차항의 계수가 음수일 때도 똑같은 방법으로 증명하면 된다.

※ 이차함수 넓이 공식

이차함수 $f(x)$ 의 최고차항 계수가 a 이고, 방정식 $f(x) = 0$ 이 서로 다른 두 실근 α, β ($\alpha < \beta$)를 가질 때, 곡선 $y = f(x)$ 와 x 축으로 둘러싸인 부분의 넓이는 $\frac{|a|(\beta - \alpha)^3}{6}$ 이다.

공식 $\frac{3a(\beta - \alpha)^3}{6} = f(\alpha) - f(\beta)$ 는 다음과 같은 경우에 유용하게 써먹을 수 있다.

① 삼차함수의 극댓값과 극솟값을 알고 있을 때

$\frac{3a(\beta - \alpha)^3}{6} = f(\alpha) - f(\beta)$ 의 우변을 알고 있는 셈이므로,

이 공식을 통해 극값을 갖는 x 좌표와 최고차항 계수에 관한 관계식을 얻을 수 있다.

② 삼차함수의 최고차항 계수와 극값을 갖는 x 좌표를 알고 있을 때

$\frac{3a(\beta - \alpha)^3}{6} = f(\alpha) - f(\beta)$ 의 좌변을 알고 있으므로, 이 공식을 통해 극값의 차를 알아낼 수 있다.

예제(13) 19년 10월 교육청 21번

최고차항의 계수가 1인 삼차함수 $f(x)$ 가 다음 조건을 만족시킨다.

- (가) 방정식 $f(x) = 0$ 의 실근은 α, β ($\alpha < \beta$)뿐이다.
(나) 함수 $f(x)$ 의 극솟값은 -4 이다.

<보기>에서 옳은 것만을 있는 대로 고른 것은? [4점]

<보 기>

- ㄱ. $f'(\alpha) = 0$
ㄴ. $\beta = \alpha + 3$
ㄷ. $f(0) = 16$ 이면 $\alpha^2 + \beta^2 = 18$ 이다.

① ㄱ

② ㄱ, ㄴ

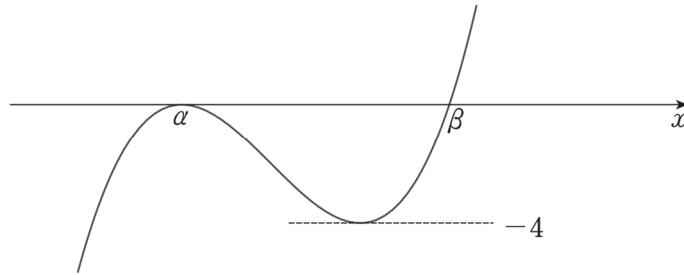
③ ㄱ, ㄷ

④ ㄴ, ㄷ

⑤ ㄱ, ㄴ, ㄷ



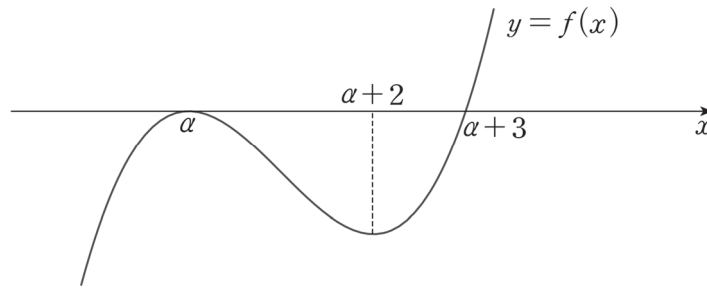
조건 (가), (나)를 모두 만족하는 $y = f(x)$ 의 그래프는 다음과 같다.



- 함수 $y = f(x)$ 는 $x = \alpha$ 에서 x 축에 접한다. 따라서 $f'(\alpha) = 0$. (O)
- 삼차함수 $f(x)$ 의 극댓값과 극솟값을 알고 있는 상황에서 극값을 갖는 x 를 묻는 보기다.
<이차함수 넓이 공식과 삼차함수 극값의 관계>를 활용하자.

$f(x)$ 가 극솟값을 갖는 x 의 값을 k 라 할 때, $\frac{|3|}{6}(k-\alpha)^3 = 4$ 이므로 $k-\alpha = 2$ 이다.

따라서 삼차함수 비율에 의해 $\beta - \alpha = 3$ 이다. (O)



- ㄱㄴㄷ 문항에서 선지 (ㄱ), (ㄴ)은 (ㄷ)을 위한 기반 작업이자 (ㄷ)을 위한 힌트가 된다.

선지 (ㄴ)에서 구한 $\beta - \alpha = 3$ 을 이용하면 $\alpha^2 + \beta^2 = \alpha^2 + (\alpha + 3)^2$ 이고

$f(x) = (x - \alpha)^2(x - \alpha - 3)$ 이다.

$f(0) = 16$ 을 적용하자. $f(0) = \alpha^2(-\alpha - 3) = 16$, $\alpha^3 + 3\alpha^2 + 16 = 0$

조립제법을 이용하면 $(\alpha + 4)(\alpha^2 - \alpha + 4) = 0$, $\alpha = -4$

$$\therefore \alpha^2 + \beta^2 = \alpha^2 + (\alpha + 3)^2 = (-4)^2 + (-1)^2 = 17 \text{ (X)}$$

옳은 선지는 ㄱ, ㄴ이므로 답은 ②!!

5. 조건 해석을 통한 삼차함수의 그래프 그리기

제시되는 표현을 잘 보자. 동일한 그래프를 나타내는 데에도 여러 표현을 사용할 수 있다. 단, 이런 표현들을 무작정 외우려 하지 말자. '공부'해서 주어진 문장을 그 자리에서 바로 따질 있는 실력을 갖춰야 한다.

$f(x)$ 는 최고차항의 계수가 양수인 삼차함수이고, α, β, γ 는 $\alpha < \beta < \gamma$ 를 만족하는 실수라 하자.

(1) $f(\alpha) = f(\beta) = f(\gamma) = 0$

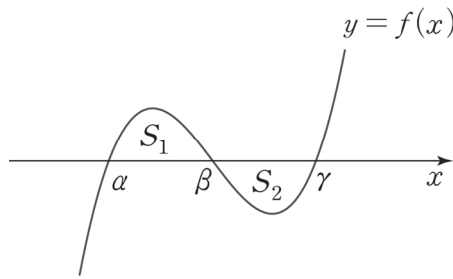
$f(x) = 0$ 이 서로 다른 세 실근 α, β, γ 를 가진다.

$f(x)$ 가 $(x - \alpha)(x - \beta)(x - \gamma)$ 를 인수로 가진다.

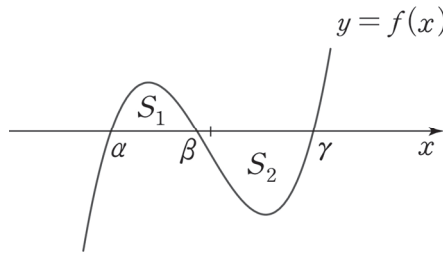
이 경우 α, β, γ 의 위치 관계에 따라 $\int_{\alpha}^{\beta} |f(x)| dx$ 와 $\int_{\beta}^{\gamma} |f(x)| dx$ 의 대소관계가 변한다.

$\int_{\alpha}^{\beta} |f(x)| dx = S_1, \int_{\beta}^{\gamma} |f(x)| dx = S_2$ 라 하자.

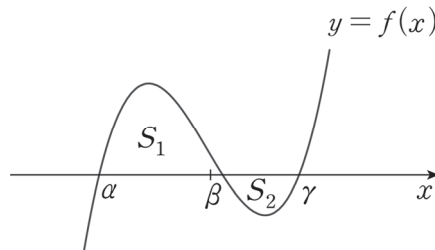
(i) $\beta = \frac{\alpha + \gamma}{2}$ 이면, $S_1 = S_2$ (β 가 α 와 γ 의 중앙에 존재할 때)



(ii) $\beta < \frac{\alpha + \gamma}{2}$ 이면 $S_1 < S_2$ (β 가 γ 보다 α 에 더 가까이 존재할 때)



(iii) $\beta > \frac{\alpha + \gamma}{2}$ 이면 $S_1 > S_2$ (β 가 α 보다 γ 에 더 가까이 존재할 때)



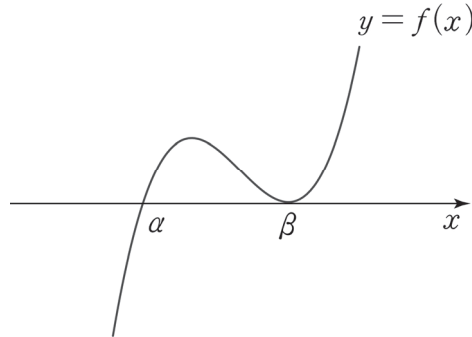
(2) $f(\beta) = f'(\beta) = 0, f(\alpha) = 0$

$f(x) = 0$ 이 β 를 중근으로 갖고, α 를 하나의 실근으로 가진다.

$f(x)$ 가 $(x - \beta)^2(x - \alpha)$ 를 인수로 가진다.

$f(x) = 0$ 의 실근은 α, β ($\alpha < \beta$)뿐이고 $f(x)$ 의 극댓값은 양수이다.

$f(x) = 0$ 의 실근은 α, β ($\alpha < \beta$)뿐이고 $f(x)$ 의 극솟값은 0이다.



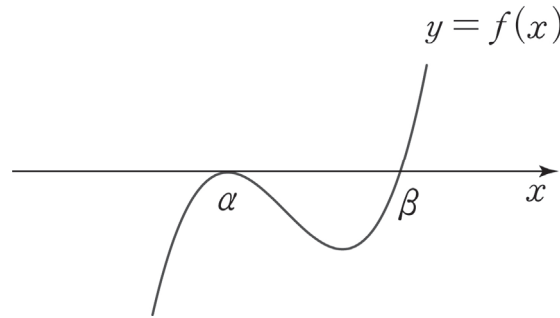
(3) $f(\alpha) = f'(\alpha) = 0, f(\beta) = 0$

$f(x) = 0$ 이 α 를 중근으로 갖고, β 를 하나의 실근으로 가진다.

$f(x)$ 가 $(x - \alpha)^2(x - \beta)$ 를 인수로 가진다.

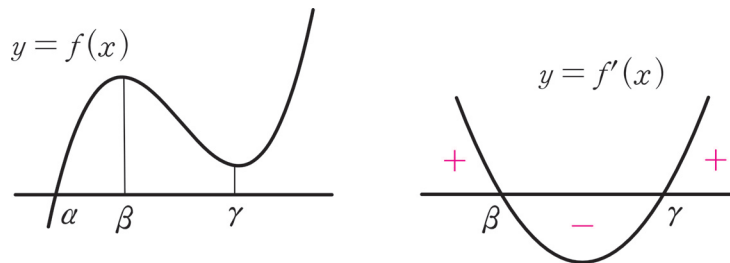
$f(x) = 0$ 의 실근은 α, β ($\alpha < \beta$)뿐이고 $f(x)$ 의 극댓값은 0이다.

$f(x) = 0$ 의 실근은 α, β ($\alpha < \beta$)뿐이고 $f(x)$ 의 극솟값은 음수이다.



(4) $f(x) = 0$ 이 α 를 오직 하나의 실근으로 갖고, $f'(x) = 0$ 이 서로 다른 두 실근 β, γ 를 가진다.

$f(x)$ 가 극값을 갖고, 극댓값과 극솟값은 모두 양수이다.



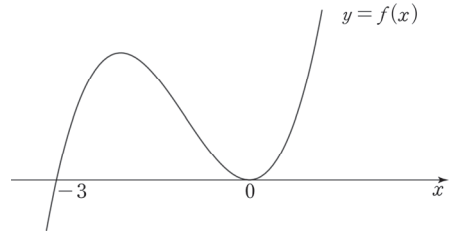
함수식 : $f(x) = (x - \alpha)(x^2 + \dots), f'(x) = 3(x - \beta)(x - \gamma)$

이 경우 써먹을 수 있는 좋은 조건이 있다. $f(x)$ 와 x 축의 교점이 1개라는 점 ($f(x) = 0$ 이 α 를 오직 하나의 실근으로 가진다는 점)에 집중하자. $f(x) = (x - \alpha)(x^2 + \dots)$ 에서 $(x^2 + \dots)$ 의 해는 존재하지 않으므로 $(x^2 + \dots)$ 의 판별식은 0보다 작다.

(5) 연습 : $y = f(x)$ 의 그래프를 그리기 위해 반드시 $y = f'(x)$ 를 관찰할 필요는 없다!

① $f(x) = x^3 + 3x^2$ 의 그래프

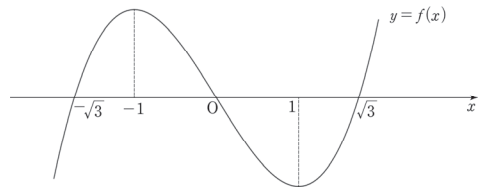
인수분해를 해주면 $f(x) = x^2(x+3)$ 이다. 따라서 $f(x)$ 는 $x=0$ 에서 x 축에 접하고, $x=-3$ 에서 x 축과 만난다.



삼차함수의 1 : 1 : 1 비율에 의해 $f(x)$ 는 $x = -2$ 에서 극대이고, $x = -1$ 에서 변곡점을 갖는다. 위와 같이 인수분해가 가능한 식을 보면, 그래프를 그리기 위해 $f'(x)$ 를 관찰할 필요가 없다. 제시된 식의 인수를 바탕으로 그래프를 그릴 수 있고, 삼차함수 비율에 의해 극점과 변곡점도 모두 찾을 수 있다.

② $f(x) = x^3 - 3x$ 의 그래프

인수분해를 하면 $f(x) = x(x^2 - 3) = x(x + \sqrt{3})(x - \sqrt{3})$ 따라서 $f(x)$ 는 $x=0$, $x = \sqrt{3}$, $x = -\sqrt{3}$ 에서 x 축과 만난다.



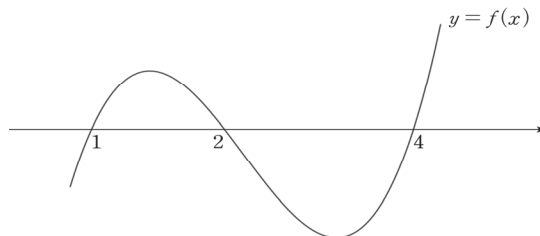
삼차함수의 1 : $\sqrt{3}$ 비율에 의해 $f(x)$ 는 $x = \pm 1$ 에서 극값을 갖는다. 또한, $f(x)$ 는 홀수차항만으로 이루어져 있으므로 기함수(원점대칭)이다. (함수의 대칭성은 이번 챕터의 마지막 부분에서 배운다.)

③ $f(x) = x^3 - 7x^2 + 14x - 8$ 의 그래프 ($f'(x) = 0$ 의 정수근이 존재하지 않는다면, $f(x) = 0$ 이 정수근을 가질지도..?)

일단 식을 보자마자 당황할 수도 있다. 위의 두 개의 식은 상당히 간단했는데 이 식은 꽤(?) 복잡하기 때문이다. 아마 대부분 그래프를 그리기 위해 $f'(x) = 3x^2 - 14x + 14 = 0$ 의 근을 관찰할 것인데, $3x^2 - 14x + 14 = 0$ 은 인수분해가 되지 않는다! 그렇다고 근의 공식까지 쓰면서 그래프를 그려야 할까? NO. 아직 $x^3 - 7x^2 + 14x - 8 = 0$ 의 인수분해는 시도하지 않았다.

삼차방정식의 인수분해 TIP을 주겠다. $x = \pm 1$ 을 대입했을 때 0이 된다면 $(x-1)$ 또는 $(x+1)$ 을 인수로 갖기 때문에 인수분해가 출제 의도인 경우가 많다. (혹은 $x = \pm 2$ 까지도 대입할 수도 있다.)

$f(1) = 1 - 7 + 14 - 8 = 0$ 이므로 $f(x)$ 는 $(x-1)$ 을 인수로 갖는다. **조립제법을 사용하여 인수분해를 해보면, $f(x) = (x-1)(x-2)(x-4)$ 이다.** 따라서 $f(x)$ 의 그래프는 다음과 같다. x 축과의 교점 사이의 거리를 의식하여 x 축과 $f(x)$ 로 둘러싸인 부분의 넓이도 고려하여 그려야 한다.



예제(14) 21학년도 6월 평가원 30번

이차함수 $f(x)$ 는 $x = -1$ 에서 극대이고, 삼차함수 $g(x)$ 는 이차항의 계수가 0이다. 함수

$$h(x) = \begin{cases} f(x) & (x \leq 0) \\ g(x) & (x > 0) \end{cases}$$

이 실수 전체의 집합에서 미분가능하고 다음 조건을 만족시킬 때, $h'(-3) + h'(4)$ 의 값을 구하시오.
[4점]

(가) 방정식 $h(x) = h(0)$ 의 모든 실근의 합은 1이다.

(나) 닫힌구간 $[-2, 3]$ 에서 함수 $h(x)$ 의 최댓값과 최솟값의 차는 $3 + 4\sqrt{3}$ 이다.



1. 함수 $g(x)$ 와 함수 $f(x)$ 는 $x = 0$ 에서 접하므로 차이함수를 작성해보자.
(차이함수는 Chapter 5에서 자세히 배운다.)

$$p(x) = g(x) - f(x) \text{라 하면 } p(0) = p'(0) = 0 \text{이므로 } p(x) = ax^3 + bx^2 \text{으로 표현할 수 있다.}$$

$$g(x) \text{의 이차항의 계수가 } 0 \text{이므로 } f(x) \text{의 최고차항의 계수는 } -b \text{이고,}$$

$$f'(-1) = 0 \text{이므로 } f(x) = -b(x+1)^2 + c = -bx^2 - 2bx + f(0) \text{이다.}$$

$$\text{따라서 } g(x) = p(x) + f(x) = ax^3 - 2bx + g(0) \text{이고,}$$

$$\text{함수 } g(x) \text{는 이차항의 계수가 } 0 \text{이므로 점 } (0, g(0)) \text{에 대하여 대칭이다.}$$

2. 조건 (가)에 맞게 함수 $h(x)$ 를 그려보자. $h(0) = f(0) = g(0)$ 이다.

$$\text{이차함수 } f(x) \text{는 } x = -1 \text{에 대하여 대칭이고}$$

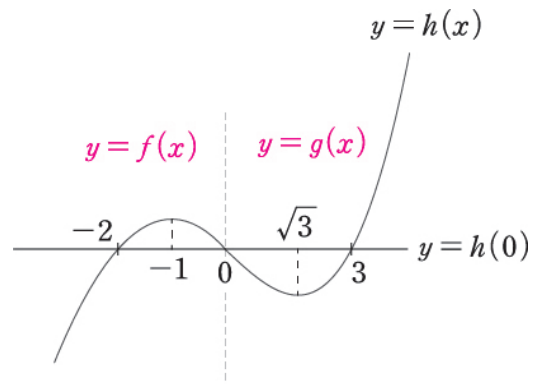
$$f(0) = h(0) \text{이므로 } f(-2) = f(0) = h(0) \text{이다.}$$

$$\text{삼차함수 } g(x) \text{는 점 } (0, h(0)) \text{에 대하여 대칭이고,}$$

$$\text{방정식 } h(x) = h(0) \text{의 모든 실근의 합이 } 1 \text{이므로}$$

$$\text{삼차함수 } g(x) \text{는 세 점 } (-3, h(0)),$$

$$(0, h(0)), (3, h(0)) \text{을 지난다.}$$



$$\text{삼차함수의 } 1 : \sqrt{3} \text{ 비율에 의하여 함수 } g(x) \text{의}$$

$$\text{극솟점의 } x \text{좌표는 } \sqrt{3} \text{이다.}$$

3. $g(x) = ax^3 - 2bx + g(0)$, $g(3) = g(0)$ 이므로 $g(3) - g(0) = 27a - 6b = 0$ 에서 $9a = 2b$ 이다.

$$\text{조건 (나)를 적용하자. 구간 } [-2, 3] \text{에서 함수 } h(x) \text{의 최댓값은 } f(-1) = b + f(0)$$

$$\text{함수 } h(x) \text{의 최솟값은 } g(\sqrt{3}) = 3\sqrt{3}a - 2\sqrt{3}b + g(0) \text{이므로}$$

$$b + f(0) - (3\sqrt{3}a - 2\sqrt{3}b + g(0)) = (1 + 2\sqrt{3})b - 3\sqrt{3}a = 3 + 4\sqrt{3} \text{에서 } 9a = 2b \text{와 연립하면}$$

$$b = 3, a = \frac{2}{3} \text{를 얻는다.}$$

4. $f'(x) = -6x - 6$, $p'(x) = 2x^2 + 6x$ 에서 $g'(x) = 2x^2 - 6$ 이다.
따라서 $h'(-3) + h'(4) = f'(-3) + g'(4) = 12 + 26 = 38$ 이다.

답은 38!!

※ 차이함수를 작성하지 않고도 풀 수 있다.

함수 $g(x)$ 의 이차항의 계수가 0이라는 것은 방정식 $g(x) = g(0)$ 의 실근의 합이 0이라는 것과 같다.
단, $g(x)$ 는 삼차함수이므로 $g(x) = g(0)$ 의 실근의 개수는 3 또는 1이다.

문제 조건에 의하여 $f(x) - f(0) = ax(x+2)$ 이고,
방정식 $h(x) = h(0)$ 의 모든 실근의 합은 1이므로 $g(x) - g(0) = bx(x-3)(x+3)$ 으로 작성이 되는
것을 알 수 있다.

($g(x) = g(0)$ 의 실근에 3이 포함되어야 하므로 $g(x) = g(0)$ 은 서로 다른 세 실근 $-3, 0, 3$ 을 가진다.)